

浙江省新高考选考信息优化卷(一)

历史

姓名: _____ 准考证号: _____

本试题卷共 6 页, 满分 100 分, 考试时间 90 分钟。

考生注意:

1. 答题前, 请务必将自己的姓名、准考证号用黑色字迹的签字笔或钢笔分别填写在试题卷和答题纸规定的位置上。

2. 答题时, 请按照答题纸上“注意事项”的要求, 在答题纸相应的位置上规范作答, 在本试题卷上的作答一律无效。

3. 非选择题的答案必须使用黑色字迹的签字笔或钢笔写在答题纸上相应区域内, 作图时可先使用 2B 铅笔, 确定后必须使用黑色字迹的签字笔或钢笔描黑, 答案写在本试题卷上无效。

一、选择题 I (本大题共 6 小题, 每小题 2 分, 共 12 分。每小题列出的四个备选项中只有一个是符合题目要求的, 不选、多选、错选均不得分)

1. [原创]参看农家著作, 多有“力能胜贫”“田者不强, 困仓不盈”“观其地势, 干湿得所”“仰著土块, 并待孟春”等观点。这些观点与战国时期一位思想家的某些理念颇为接近或类似。据此可知, 这位“思想家”是 ()

- A. 老子 B. 庄子 C. 荀子 D. 邹衍

2. [原创]史载:“山东尚承齐俗, 机巧奸伪, 避役惰游者十六七。四方疲人, 或许老诈小, 规免租赋。”于是, 高祖令州县严查户口, 依照户籍上登记的年龄与本人相貌核对。“户口不实者, 正长远配。又开相纠之科。”这一户籍编制和管理方式出现于 ()

- A. 汉朝 B. 隋朝 C. 元朝 D. 明朝

3. [原创]“时处今日, 惟有及时详晰甄核, 仿行宪政, 大权统于朝廷, 庶政公诸舆论, 以立国家万年有道之基。”但又借口“规制未备, 民智未开”, 不能“操切从事, 涂饰空文”, 故须“俟数年后……查看情形……再行宣布天下”。材料述及事件引发的结果是 ()

- A. 使不少立宪人士转而支持革命 B. 导致清朝中央政府权力的下降
C. 严重动摇了清政府统治的根基 D. 宣告清王朝在中国统治的结束

4. [原创]对于上古时期的某一制度, 有史家评述说: 这种制度“不仅仅与社会分工有关, 同时与种族征服有关……对于阶级压迫来说既是一种补充又具有掩盖作用。(它)把社会的各个集团互相隔离又互相联系, 使之互相依存, 形成了一种静态的平衡, 并一直保存至今, 还将长期存在下去”。该史家评述的这一制度存在于下图中的 ()



- A. ①处 B. ②处 C. ③处 D. ④处

5. [原创]大约到 1300 年,英国、法国和伊比利亚半岛的君主们都初步赢得了臣民的忠诚,并以此取代对团体、地区或教会机构的忠诚。基于所有这些理由,它们使内部的和平与稳定扩展到先前动荡不定的大部分欧洲地区。因此,它们使生活更有价值。这从一个侧面表明当时的西欧国家 ()

- A. 国王的权力有所提升
B. 封君封臣制度终结
C. 王权与教会分庭抗礼
D. 近代民族国家形成

6. [原创]观察如图所示漫画。该漫画意在说明 ()

- A. 大规模杀伤性武器正在无休止地扩散
B. 美国维护以 WTO 规则为基础的国际贸易
C. 局部战争使得国际贸易遭受严重挑战
D. 美国的霸凌行径已经成为国际一大公害



二、选择题 II (本大题共 12 小题,每小题 3 分,共 36 分。每小题列出的四个备选项中只有一个是符合题目要求的,不选、多选、错选均不得分)

7. [原创]汉灵帝中平五年(188 年),因四方兵寇,复有改(州)牧之举。其议发自益州牧刘焉。焉谓“刺史威轻,既不能禁,且用非其人,辄增暴乱”。乃议“改置牧伯,镇安方夏,清选重臣,以居其任”。许多州牧为此“内亲民政,外领兵马”。这一情形使得 ()


- A. 巡视监察制度正式退出历史舞台
B. 地方诸侯国不再对中央构成威胁
C. 道、州、县三级行政制开始出现
D. 内轻外重、干弱枝强的局面形成

8. [改编]下表列举的是唐玄宗时期新建的州县(引自吴宗国《隋唐五代简史》)。这些州县的新建,从一个侧面说明当时的南方地区 ()

时间	735 年	736 年	737 年	738 年	740 年	741 年	742 年	743 年	752 年	754 年
新建	巴川县	汀州	唐城县	明州	歙州	尤溪县	青阳县	唐年县	太平县	浦阳县
今属	四川	福建	湖北	浙江	安徽	福建	安徽	湖北	安徽	浙江

- A. 安史之乱期间政局相对稳定
B. 直接受到南诏族势力的威胁
C. 因经济发展成赋税收重地
D. 户口多于北方的格局已定型

9. [原创]汉字“范”的其中一种解释是铸造器物的模型。《集韵·去声·范韵》曰“范,模也”;宋·沈括《梦溪笔谈·卷一八·技艺》说“欲印则以一铁范置铁板上,乃密布字印。满铁范为一板”。下列项中,属于“铸造器物的模型”的有 ()



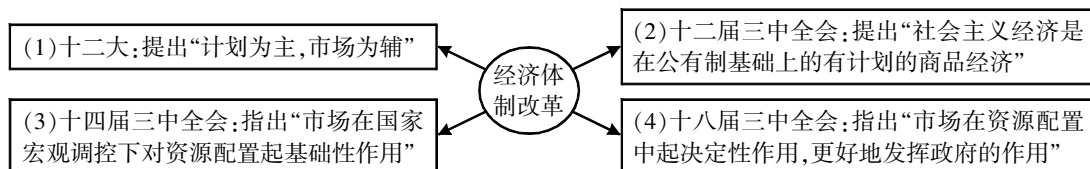
- A. ①③
B. ②④
C. ①②③
D. ①③④

10. [改编]“周秦以来碑碣、石幢、石磬、造像及石刻、古画、摩崖字迹之类,现存何县、何地,及某县某种物共有若干,某物字迹现存若干,有无断折残缺情形,拟令督抚饬属详查咨部存案备核。”这是中国某一时期在《保存古迹推广办法章程》中所作的重点说明。下列相关表述,与此相符的是 ()

- A. 这是中国历史上公布的第一部文物保护法律
B. 落实了国际宪章强调文物保护的真实性原则
C. 借此完成中国历史上第一次全国性文物普查
D. 表明中央政府对文物古迹保护的重视和推广

11. [原创]1927年5月9日,中共五大选举产生了党的历史上第一个中央纪律检查监督机构——中央监察委员会。委员会由10人组成,都是工农运动和革命斗争中久经考验,在群众中拥有崇高威望的党的领导干部,其中6人出身工人。该“机构”产生的背景是 ()
- A. 中共成立后工人运动的展开
B. 国民革命运动的发展与失败
C. 中国国民党专制统治的确立
D. 农村革命根据地建立和发展


12. [原创]下图所示为中共十一届三中全会后我国经济体制改革内容(部分)的走向。据此分析可知,我国经济体制改革的核心是 ()



- A. 发展多种所有制调整产业结构
B. 强化政府对经济的全面调控
C. 处理好政府与市场的关系
D. 促进国际国内市场相互衔接
13. [改编]罗马法对买卖、借贷、债务、契约、租赁、雇佣、合伙、共有、继承等涉及简单商品所有者的一切法律关系,都有非常详细而明确的规定,因而恩格斯说这是“简单商品生产即资本主义前的商品生产的一切法律关系”。这表明罗马法 ()
- A. 旨在推动帝国的扩张
B. 极力维护贵族的利益
C. 确立遵循先例的原则
D. 重视社会生活的调节
14. [原创]曼彻斯特是世界上第一座工业城市,这里曾经诞生了世界上最早的近代棉纺织大工业。下表所列材料反映了曼彻斯特城市当时的发展状况。材料表明 ()

①	1786年,居民们看到第一根烟囱。仅过15年,已约有50个纱厂,大多拥有蒸汽机。市中心已经美化,开辟了宽阔的街道,旁边设有商店。路政得到改善,街道有了照明,消防救火组织成立
②	城市缺乏总体设计规划,布局显得零乱、无序。工厂沿河而建,工厂废弃物对河流构成严重威胁。纱厂周围是工人的棚屋,绵延数里,几乎将旧城区包围。没有下水道,垃圾、粪便成堆,严重污染居住环境

- A. 城市化改变人们的生活空间
B. 城市化进程经历了漫长过程
C. 工作区与居住区已逐渐分隔
D. 城市化成就与环境问题并存
15. [原创]右图是庆贺某一工程完工的历史照片。照片中没华工身影,主持人只字不提华工的贡献。他们后来因此被称为“沉默的道钉”。作为历史素材,这张照片也出现在“2025年春节档”电影《唐探1900年》最后的情节之中。该“照片”反映的史实是华工 ()



- A. 从明清到民国“下南洋”情形
B. 从事美国中央太平洋铁路的修建
C. 从事美国加利福尼亚金矿开采
D. 从事大洋洲岛屿种植园经济劳作
16. [原创]进入21世纪以后,“全英赋能合作”项目在英国各地展开,社区发展组织在政府社区决策中发挥着重要作用,他们参与项目广泛,几乎涵盖所有复兴、包容和健康改善项目等,进而形成政府、志愿者组织、社区以及民众之间的多元合作伙伴关系。这一新情形的出现,说明 ()
- A. 政府进一步加强了基层治理的管理
B. 社区发展成为基层自治的主要方式
C. 自上而下解决社会问题的机制形成
D. 社区更多地承担了政府的服务功能

17. 联合国粮农组织的职能包括搜集和传播世界粮农生产、贸易和技术信息,促进成员国之间的信息交流;向成员国提供技术援助,以帮助提高农业技术水平;向成员国提供农业政策支持和咨询服务;商讨国际粮农领域的重大问题,制定有关国际行为准则和法规。据此可知,联合国粮农组织解决世界粮食问题的重要手段是 ()
- A. 推动农业技术的交流
B. 严控食品生产的安全
C. 加强国际合作与协调
D. 建立国际经济新秩序
18. 论及历史学家,有学者指出,他们以为是在让事实说话,但事实只是事实,它本身是不会说话的。说话的乃是掌握着所谓史实的人,即历史学家。而历史学家并不等于史实本身,只是所谓的史实的阐述者。号称是历史学家的人,并不事先考虑历史学的性质是什么,就一头钻入历史研究,便很可能钻之愈深则失之愈远。这一观点表明 ()
- A. 历史是历史学家们纯属主观的创造,历史并无客观的真实可言
B. 所谓历史学,就无非是一堆档案资料的堆积,而谈不到对历史的理解
C. 历史学的结论不宜停留在抽象的概念上,而是需要深入到客观具体的个性之中
D. 我们所知的历史只可能是历史学家转手重塑的历史,不可能直接就是历史的本来面貌

三、非选择题(本大题共4小题,共52分)

19. (12分)[原创]不同形式的书籍是中华文明传承的主要载体。阅读材料,完成下列要求。

材料一 ……皇帝制书→丞相府令书→郡守文书→县令文书→乡啬夫文书→里典执行文书。北京大学藏秦简《为吏之道》记载,重要文书需“朝受而夕行之”。里耶秦简 J1(16)5 号木牍显示,一份关于戍卒调动的文书从洞庭郡发至迁陵县仅用三日,印证了《竹书律》中“五百里以内六日行”的规定。

睡虎地秦简《编年史》显示,秦代实行“岁十月赐牛酒”的年度户籍核实制度。里耶秦简中保存的“南阳户版”详细记录各户人口、土地、赋税情况,采用“分户别籍”的编撰方式。据学者统计,迁陵县户籍文书记录误差率低于 2%。

——据《秦简牍文书行政管理制度复原研究》等整理

材料二 雕版印刷究竟始于何时,是一个比较复杂的问题。但通过文字、实物材料的发现和考辨,目前“唐朝”说已为绝大多数学者所接受。唐穆宗时,诗人元稹作《白氏长庆集序》,称白居易诗风行社会,“至于缮写模勒(即雕版),炫卖于市井”。并注云“扬、越间多作模勒乐天(白居易)及予(元稹)杂诗,卖于市肆之中也”。20 世纪初,在敦煌莫高窟发现了唐懿宗咸通九年(868 年)王玠为父母祈福而出资印刷的《金刚经》,经卷首印佛像,次刻经文,印刷精美,反映出雕版印刷经长期发展,已经达到比较高的技术水平。然而,雕版印刷费工费时,保存又占用空间,颇多不便。因此在北宋仁宗庆历年间,平民毕昇便发明了更先进的活字印刷术。

——袁行霈、严文明等《中华文明史》(第三卷)(有改动)

- (1)依据材料一,结合所学,指出秦朝建立的行政管理制度及各自体现的特征,并简述这些考古发掘的“秦简”的历史价值。(6分)

- (2)依据材料二,结合所学,写出中国古代书籍普及的三个重要依赖性技术,并对材料所涉及的两类史料如何运用作一简要说明。(6分)

20. (12分)[原创]边疆治理的成效直接关系到国家的长治久安与繁荣昌盛。阅读材料,完成下列要求。

材料一 经过康、雍、乾三朝约100年的努力,清朝最终完成了统一。统一之所以能够延续,与清朝颇为成功的民族政策有很大关系。乾隆就曾曰:“中国抚驭远人,全在恩威并用,令其感而知威,方为良法。”

……这其中,也包括经过一系列的变革,清政府对西藏的管理逐渐稳定了下来。为此,清代思想家魏源在《圣武记》(卷五)中曾评论说:“于是事权归一,自唐以来,未有以郡县治卫藏如今日者……自元、明以来,未有以齐民治番僧如今日者。”

——叶炜《中国古代史十四讲》

材料二



青藏铁路于1958年开始建造,2006年全线开通

2013年10月31日,西藏墨脱公路全线通车

(1)根据材料一,概括魏源所表达的思想。结合所学,列举史实说明清政府在管理西藏上“恩威并用,令其感而知威”的“变革”,并写出新中国成立后西藏自治区成立的时间。(6分)

(2)结合所学,写出材料二图片所体现的党和国家民族工作的主题,并简析“青藏铁路全线开通”“墨脱公路全线通车”的重要意义。(6分)

21. (12分)[原创]工业化是传统农业社会向现代工业社会转变的过程,不同国家的工业化进程会呈现不同的特征。阅读材料,完成下列要求。

材料一 英国最初工业化是从棉纺织业开始的,从18世纪中叶开始,消费需求刺激了英国棉纺织工业的变革。海内外旺盛的棉布需求,以至于生产者不得不加快纺织速度以满足不断增长的海内外市场。为了提高产量,他们求助于新发明,很快棉纺织工业机械化了,近代工厂制也随之建立。蒸汽技术的发展使棉纺织工业领域机器生产代替手工成为可能。值得一提的是,英国最初工业化的启动和实现,除了国内具备的一些重要条件,对海外资源的掠夺、市场的开拓及资金的积累,无疑也起了重要作用。

——[美]杰里·本特利等《新全球史(文明的传承与交流——1750年至今)》

材料二 斯大林认为,不是发展任何一种工业都是工业化,工业化的中心,工业化的基础,是发展重工业。因此,苏联在资金分配上,侧重支持重工业。斯大林一直强调高速度发展工业,并以此作为社会主义比资本主义优越的标志之一。斯大林同时提出,工业化的资金来源要“靠自己”,认为资本主义可以靠掠夺殖民地,收集“追加”的资本,靠战争向外国勒索赔款,靠奴役性的借外债。社会主义国家不能采取这些办法,而只能靠自己国内的积累,靠节约。苏联通过社会主义革命,消灭了国内外资本家的剥削,扩大了资金积累的源泉。

——齐世荣《15世纪以来世界九强的历史演变》

(1)根据材料一,说明英国工业化初期市场、工业、技术三者之间呈现的联动关系,并结合所学,简述“近代工厂制”建立所带来的积极影响。(6分)

(2)根据材料一、二,概括英国、苏联工业化进程呈现的不同特点。结合所学,试对苏联工业化予以简要评价。(6分)

22. (16分)[原创]近代以来,国际法逐渐形成并成熟,中国也开始与国际法全面接触。阅读材料,完成下列要求。

材料一 今日是“昨日”的“今日”,历史不能割裂。欲从整体上思考世界百年未有之大变局的真谛,宜回溯到1648年《威斯特伐利亚和约》签订时,《和约》确立了以单一主权国家作为国际政治的主体,重新划定欧洲国家的政治版图,形成欧洲战略新格局的“威斯特伐利亚体系”。从1792年到1815年20余年间英、俄、普、奥等国组成的七次反法战争打败法国后,欧洲列强于1815年在维也纳召开会议,形成了欧洲协调的“维也纳体系”,但这依然是强权政治的体系。

——于沛《百年未有之大变局与世界历史进程》(《世界社会主义研究》,2022年第4期)

材料二 近代中国与国际法的全面接触,改变了中国社会的格局与心态,也改变了国际法的体系与结构。中国最初与国际法的相遇深化,见证了国际法的西方主导状态和实质不公正的品性,而中国随后对于国际法的应用也为国际法的平等实施注入了新元素。中国从经济自足、文化封闭的状态起步,在国际法的压力和促动之下,开启了步入现代性的历程。与此同时,中国对国际法日渐熟悉,并参与一系列国际立法活动,成为国际舞台上越来越受到重视的行为体。自此,中国的国际地位也有了明显的改变。

——何志鹏、孙璐《中国与国际法的相互建构》(《国际关系与国际法学刊·第9卷》)

(1)根据材料一,结合所学,写出“威斯特伐利亚体系”形成前爆发的战争名称及“维也纳体系”的显著特征,并概述西方国家在应用以“维也纳体系”为核心的国际法时所呈现的不足之处。(4分)

(2)根据材料二和所学知识,列举20世纪两次世界大战的相关史实,以“20世纪国际法与近代中国国际地位”为主题,写一篇历史小论文。(要求:自拟标题,史实列举充分,观点陈述正确,结论合理)(12分)

浙江省新高考选考信息优化卷(二)

历史

姓名: _____ 准考证号: _____

本试题卷共 6 页, 满分 100 分, 考试时间 90 分钟。

考生注意:

1. 答题前, 请务必将自己的姓名、准考证号用黑色字迹的签字笔或钢笔分别填写在试题卷和答题纸规定的位置上。


2. 答题时, 请按照答题纸上“注意事项”的要求, 在答题纸相应的位置上规范作答, 在本试题卷上的作答一律无效。

3. 非选择题的答案必须使用黑色字迹的签字笔或钢笔写在答题纸上相应区域内, 作图时可先使用 2B 铅笔, 确定后必须使用黑色字迹的签字笔或钢笔描黑, 答案写在本试题卷上无效。

一、选择题 I (本大题共 6 小题, 每小题 2 分, 共 12 分。每小题列出的四个备选项中只有一个是符合题目要求的, 不选、多选、错选均不得分)

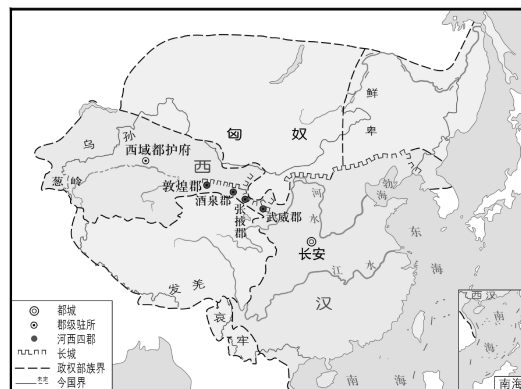
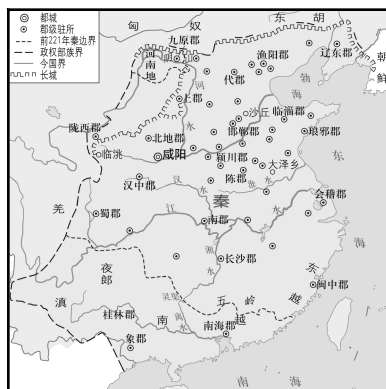
1. 中国人通过祭祀表达对黄河的敬畏。据甲骨卜辞记载, 殷人每年多次举行黄河祭祀, 以求雨、求丰年等。春秋战国时期, 中原地区的诸侯也常常祭祀黄河, 以结盟、立誓或祈求战争胜利等。这反映 ()
- A. 黄河影响中华文明的形成
B. 原始的民主传统影响国家政治
C. 华夏认同的观念已经形成
D. 早期国家具有浓厚的宗教色彩
2. [原创]何以中国? “中国”概念的变化, 经历了一个漫长的历史过程。它由最初标杆竖旗以示居处方位的中心概念——“余其宅兹中国”, 逐渐发展到文化和权力叠加的辐射概念——“溥天之下, 莫非王土”, 进而再到愈益清晰化的政区地理界分的民族国家疆域概念。下列制度可佐证“溥天之下, 莫非王土”的是 ()
- A. 内外服制
B. 分封制
C. 宗法制
D. 三公九卿制
3. [改编]金冲及在《二十世纪中国史纲》论述近代社会变革时说: “单靠中国社会内部旧有的那些社会力量已经不能给中国指出新的出路。时代已经变了, 需要有新的社会力量来担当这个角色, 尽管新的社会力量当时还很微弱, 还不足以担当起把祖国从危难中拯救出来的任务, 但终究把中国历史很大地向前推进了一步。”下列历史人物, 属于“新的社会力量”的是 ()
- A. 林则徐
B. 洪秀全
C. 左宗棠
D. 孙中山
4. [原创]在 13 世纪的阿拉伯文献中, 硝(火药的主要成分之一)被称作“巴鲁得”, 因来自中国, 故又名“中国雪”。欧洲文献中最早的火药知识全都来自阿拉伯地区。大约 14 世纪上半期, 火药已经在欧洲广泛传播。由此可见 ()
- A. 中国四大发明影响了欧洲历史进程
B. 阿拉伯人在东西方交流中扮演重要角色
C. 中国文化全部由阿拉伯人传到欧洲
D. 阿拉伯和中国文化成为欧洲文化的源头
5. 有学者提出, 公元 1500 年前后这一时段固然重要, 但还不能称之为欧洲历史的分水岭, 因为此时欧洲在政治、经济、文化和社会关系等领域并无本质变化。这种状态一直持续到 18 世纪中后期, 此后历史才真正步入现代, 分水岭才真正出现。“分水岭真正出现”的政治表现是 ()
- A. 资本主义制度的确立
B. 两次工业革命的完成
C. 欧洲启蒙运动的兴起
D. 世界殖民体系的建立

6. [改编]1919年6月26日,美国《生活》杂志刊登漫画:“有些人认为我应该待在家里。”该漫画反映一战后的美国 ()
- A. 急于摆脱欧洲转向国内事务
B. 企图通过巴黎和会夺取世界霸权
C. 积极联合欧洲提升国际威望
D. 提出门罗主义在亚太有扩张野心



二、选择题 II (本大题共 12 小题,每小题 3 分,共 36 分。每小题列出的四个备选项中只有一个是符合题目要求的,不选、多选、错选均不得分)

7. [原创]读秦朝和西汉形势图,汉长城相较于秦长城的空间视角不同。造成此现象的主要原因在于秦汉 ()



- A. 治国理念的差异
B. 民族关系的亲疏
C. 国家实力的强弱
D. 君主威望的大小
8. [改编]唐宋时期的敦煌文书《十世纪敦煌遗嘱格式(乙)》中提到“吾若死后,不许相争。……他生莫见佛面,长在地狱,兼受畜生。若不听知,于此为报”;《十世纪敦煌分家文书格式(甲)》中提到“骨肉之厚,不可有分飞之愿。……长守尊卑之礼”。文书中所载内容体现这一时期 ()
- A. 儒学向基层渗透
B. 家训重礼法结合
C. 儒释道融合发展
D. 以乡约教化乡里
9. [原创]《尚书·禹贡》中“禹别九州”蕴含着“中国一统”的理想建构。唐朝杜佑的《通典·州郡》“以九州为纲”延续了《禹贡》九州的认知。两宋以前,“九州”的中心区域在河洛地区。从元朝开始,南北混一,各民族进一步交往交流交融,突破了《禹贡》九州范围的认知,幽燕地区成为新的中心区域,到清朝前中期中国实现了空前的大一统。“九州”认知演变,本质上折射中国古代 ()
- A. 大一统的历史进程
B. 政治统治中心不断转移
C. 疆域版图持续扩大
D. 民族交流交融逐步加强
10. 1924年李大钊在《人种问题》中指出,我们中华民族在世界上贡献,大都以为是老大而衰弱。今天我要问一问,究竟他果是长此老大衰弱而不能重振复兴吗?不的!从“五四”运动以后,我们已经感觉到这民族复活的动机了。从组织层面看,民族复活的“动机”是指 ()
- A. 马克思主义传播
B. 国民革命的兴起
C. 土地革命的实施
D. 中国共产党成立

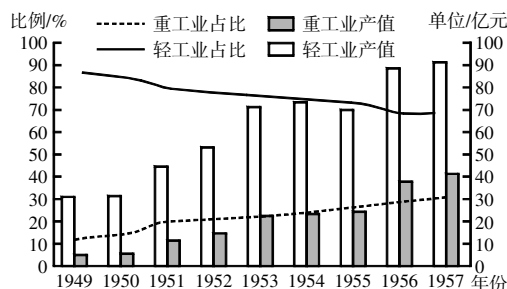
11. [改编]如图为 1937 年 11 月《中苏文化杂志》“抗战特刊”创刊号的封面漫画——《我们的长城——四万万七千万》。该漫画意在 ()

- A. 反映抗日民族统一战线的形成
- B. 颂扬长城抗战中誓死不屈的民族精神
- C. 说明长城是中华民族伟大象征
- D. 肯定中国共产党抗战中流砥柱的作用



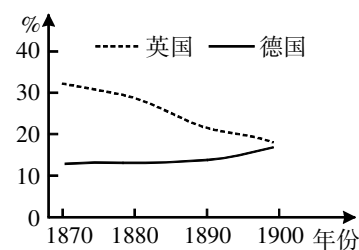
12. [原创]如图为 1949—1957 年上海轻、重工业产值和占比变化情况。这一变化主要是因为 ()

- A. “三大改造”的完成
- B. “米棉之战”的胜利
- C. 三线建设的发展
- D. “一五计划”的实施



13. [改编]如图所示英国、德国工业生产在世界所占比重变化的趋势,其根本原因在于 ()

- A. 第二次工业革命
- B. 德意志帝国的成立
- C. 英德矛盾的激化
- D. 两大军事集团对立



14. [改编]工厂制度在英国形成后,工厂主大多数不是贵族。他们凭自己的创造才能取得发明专利,更凭精明的算计开办工厂,有的成为万人瞩目的首屈大富。19 世纪中后期,工厂制度进入中国。据对 1913 年以前开办或投资工厂的 202 个人的统计,地主占 55.9%、买办占 24.8%、商人占 18.3%、华侨占 1%。由此可见 ()

- A. 当时中国工厂具有明显的封建性质
- B. 英国工厂主凭借技术创新取得成功
- C. 中国早期工厂主凭借经济实力获胜
- D. 政治环境影响中英工厂创办者身份

15. [改编]1933 年 3 月 8 日《红旗周报》刊登的中国共产党纪念巴黎公社的文章:“今年国际无产阶级纪念巴黎公社,是在特殊的历史时机中举行的……因此今年巴黎公社纪念的意义,是更加重大,而学习巴黎公社的革命经验以及苏联无产阶级的伟大的历史创造是更加迫切了。”从世界范围看,“特殊的历史时机”是指 ()

- A. 法西斯势力侵略扩张
- B. 苏联工业产量跃居世界第二
- C. 美国实施罗斯福新政
- D. 第二次世界大战已全面爆发

16. [改编]第二次世界大战改变了远东格局,美国在亚太地区扩张的头号对手日本已俯首称臣,英、法因战后重建有求于美国,它们在华势力大大削弱;而美国的经济和军事实力在战争中空前发展,世界上没有哪个国家与之匹敌,美国追求世界的“领导”地位,它要建立由自己主宰的世界秩序。二战后的“远东格局”不包含 ()


- A. 中国抗日战争的胜利
- B. 日本由美国单独占领
- C. 美苏对峙局面的形成
- D. 英国被迫同意印度独立

17. [原创]冯天瑜先生在《中国文化生成史》中指出,多极世界各具特色的文明彼此交流沟通,其间既有冲突激荡,又有吸纳融会,达成你中有我、我中有你的“涵化”结果。今日所谓“西方文明”是多元复合物,东亚文明的持续发展也是诸文明“对话”的产物。作者旨在说明 ()

- A. 世界文化的丰富多彩
- B. 世界文明在交流碰撞中整体发展
- C. 中华文化的世界意义
- D. 人类文明进步源于多极化的世界

18. [原创]1920年开始,中华书局推出“新文化丛书”。如图为一则推介广告(注:对图中文字作繁简转化处理)。此广告 ()

- A. 真实客观反映了新文化运动概况
- B. 有力推动了当时社会思想文化革新
- C. 佐证当时马克思主义已广泛传播
- D. 能作为研究丛书的重要或一手史料



三、非选择题(本大题共4小题,共52分)

19. (12分)[改编]叙史见人,以人悟史。辛弃疾曾评价朱熹曰:“所不朽者,垂万世名。孰谓公死,凛凛犹生”。阅读材料,完成下列要求。

材料一 宋代学校教育有了新发展。关于学校教育,朱熹认为其目的是“明人伦”和“格物致知”。朱熹将小学教育比做“打坯模”,强调从儿童幼小时“教之以洒扫、应对、进退之节,爱亲、敬长、隆师、亲友之道”和“礼乐射御书数之习”。在此基础上,大学阶段“教之以穷理、正心、修己、治人之道”。他还提倡“因材施教”,注意学生个性差异。

——陈超《略论朱熹教育思想及其现实意义》等

材料二 社仓始于隋代,其管理、发放等体制历代不一,但多以失败结束。1171年,朱熹在建宁府崇安县五夫里创办了社仓,并订立规则:社仓贷谷给农民,取息20%,发生小饥时可以减半,发生大饥时可以免除利息。丰年如遇人户请贷,即开两仓,存留一仓。若遇饥歉,则开第三仓,专赈贷深山穷谷耕田之民。社仓的首领一般由乡官或士人担任,选任时尤其注重其人品德行,粮食贷放和收回时,县府须派官到场监视。借贷社仓米必须签署文书并有人担保,贷户如拖欠不还或者逃亡,由担保户“均备纳足”。

——朱熹《社仓事目》

(1)阅读材料一,概括朱熹的教育思想,并结合所学,分析其教育思想产生的历史背景。(6分)

(2)根据材料二,分析朱熹的社仓成功运营的原因,并结合所学,概括当时社会救济与优抚政策的特点。(6分)

20. (12分)[改编]中国地图绘制从古代到近代,呈现出鲜明的技术传承、文化特色与时代特征。阅读材料,完成下列要求。

材料一 明朝政府要求各地定期测绘地图,并形成“三年一报”的地图造送制度,测绘了大量区域性地图。朱元璋为掌握边防重镇的军事部署和防务情况,测绘过不少军事防务地图。郑和七下西洋进行了大量的海图测绘,发展了海上定位技术,绘制了举世闻名的《郑和航海图》。明代中期也绘制了不少海防图、江防图,地图学家们绘制了数量众多、水平较高的地图集。清康熙皇帝在西方传教士的帮助下,用西方的测量技术进行了全国范围的地图测绘,绘成了《皇舆全览图》。

——马晨燕等《对中国古代地图测绘政治依附性的评价》

材料二 清末以降,采用西方印刷技术的新式地图,逐渐成为近代中国思想启蒙与“出版救国”的重要媒介。20世纪初,商务印书馆开始涉足地图出版领域,特别是伴随“癸卯学制”的颁行,为配合中小学“最新教科书”的编辑与发行,相继译印《西洋历史地图》《瀛寰全图》《万国舆图》等教学地图,颇受当时中小学教材市场的欢迎。同时,感于“日俄开战,于我国关系甚大”,于1904年出版发行了《最新满洲朝鲜地图》,成为清末较有代表性的实物地图。

——李鹏《清末民国商务印书馆地图出版述论》

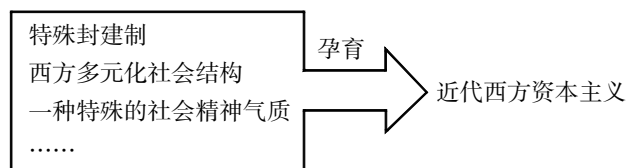
(1)根据材料一并结合所学,指出明朝海防面临的新问题,概括明清地图绘制的特点。(6分)

(2)根据材料二并结合所学,分析清末民国“新式地图”发展的时代背景,并概述其传播产生的历史作用。

(6分)

21. (12分)[改编]宏观历史,把握历史大势,参透西方资本主义的发展本质。阅读材料,完成下列要求。

材料一 现代西方思想家马克斯·韦伯在其论著中谈到近代西方资本主义是由下列诸要素合力所造成的。



——马渭源《马克斯·韦伯与中西传统社会结构对比研究》

材料二 欧洲中心主义不仅是欧洲人的一种认知观念和文化偏好,而且是欧洲人把自身文化传播或强加给非欧洲地区的理论指导。中世纪晚期,欧洲出现了前所未有的发展,开始引领世界潮流,特别是美洲的“发现”与拓殖大大加强了欧洲大国在世界舞台上竞争的力量,以欧洲为中心来看待非欧洲文明成为欧洲人集体具有的一种心态。欧洲能够率先跨入现代世界,固然是各种因素综合在一起的结果,但基督教作为欧洲人的主要信仰同样发挥了不可替代的重要作用。

——王晓德《欧洲中心主义的兴起及其实质》

(1)根据材料一,结合所学,指出“特殊封建制”所对应的制度。结合西欧5—18世纪历史,从“一种特殊的社会精神气质”方面,阐释说明马克斯·韦伯的观点。(6分)

(2)阅读材料二,揭示近代“欧洲中心主义”的实质,并分析其兴起的原因。(6分)

22. (16分)[原创]立足于“社会转型时期”,从动态的视域揭示历史演进之谜。阅读材料,完成下列要求。

历史动力学理论认为,社会通常是在时间递进型与空间传动型动力作用下向前发展的。时间递进常指一个社会靠自身的动力机制向前发展,而空间传动则指社会的发展是在外力的冲击和压迫下实现嬗变。在时间递进型动力作用下所实现的社会转型是其内在矛盾展开、激化、质变的结果,它给价值系统带来的往往是传统与现实、新与旧的纷争;在空间传动型动力作用下,社会的转型是在外力刺激下发生的,价值系统内部呈现的通常是内与外、中与西、自生的与舶来的冲撞与涤荡。

——李培超《社会转型与道德冲突》

(1)阅读材料,简析材料中“历史动力学理论”的内涵。(4分)

(2)以唯物史观为视角,运用历史动力学理论,选取中外历史进程中的某一转型时期,自拟论题,写一篇短文。(要求:标题自拟,观点陈述正确,史实列举充分,结论合理)(12分)

浙江省新高考选考信息优化卷(三)

历史

姓名: _____ 准考证号: _____

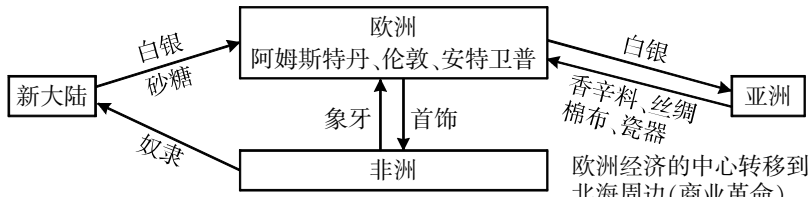
本试题卷共 6 页, 满分 100 分, 考试时间 90 分钟。

考生注意:

1. 答题前, 请务必将自己的姓名、准考证号用黑色字迹的签字笔或钢笔分别填写在试题卷和答题纸规定的位置上。
2. 答题时, 请按照答题纸上“注意事项”的要求, 在答题纸相应的位置上规范作答, 在本试题卷上的作答一律无效。
3. 非选择题的答案必须使用黑色字迹的签字笔或钢笔写在答题纸上相应区域内, 作图时可先使用 2B 铅笔, 确定后必须使用黑色字迹的签字笔或钢笔描黑, 答案写在本试题卷上无效。

一、选择题 I (本大题共 6 小题, 每小题 2 分, 共 12 分。每小题列出的四个备选项中只有一个是符合题目要求的, 不选、多选、错选均不得分)

1. [原创]“中华文明探源工程”是一项研究中国文明起源的大型科研项目, 根据研究成果, 专家们认为在距今 5500—3800 年间为古国时代, 其后被王朝时代所取代。根据这个结论, 下列属于“王朝时代”的遗址是()
A. 贾湖遗址 B. 良渚遗址 C. 陶寺遗址 D. 二里头遗址
2. 魏晋时期, “士”主要指门阀士族。到了唐代“士”的含义发生了变化: 唐朝前期的法令中“凡习学文武者为士”, 后来范围逐渐缩小, 到了开元中“士有不由文学而进, 谈者所耻”。唐朝“士”含义的变化主要是因为 ()
A. 门阀士族退出政治舞台 B. 政府重文轻武提倡文治
C. 新的文学形式得以发展 D. 人才选拔机制发生变化
3. [原创]有近代知识分子认为: “中国今日虽振兴商务, 要当取法泰西(西方国家)。盖西人尚富强最重通商, 其君相惟恐他人夺其利益, 特设商部大臣以提挈纲领。远方异域, 恐耳目之不周, 监察之不及, 则任之以领事, 卫之以兵轮。……虑其不专, 则设学堂以启牖之。……立法定制, 必详必备, 在内无不尽心讲习, 在外无不百计维持。”该知识分子认为挽救民族危亡重在 ()
A. 尽快振兴商务 B. 全面学习西方
C. 维护君主权威 D. 翻译西方书籍
4. [原创]非洲文明历史悠久, 在世界历史上具有显著的地位和影响力。以下对地图中非洲文明的描述正确的是 ()
A. 公元前后阿克苏姆王国兴起于①地
B. 楔形文字在②地区流行数千年
C. 早期居民班图人最早活动于③地区
D. ④地区曾建立了津巴布韦国家
5. [原创]观察下面大航海时代后的世界贸易示意图, 对此解读正确的有 ()



欧洲经济的中心转移到北海周边(商业革命)

- ①世界贸易形成了多中心的新格局
- ②亚、非、拉等地已纳入资本主义世界市场之中

③欧洲商人和殖民者直接同世界各地建立起商业联系

④新的亚洲贸易中心形成,澳门等地成为国际贸易的枢纽

A. ①②

B. ③④

C. ①③

D. ②④

6. [原创]1929 到 1930 年,历史学家汤因比从伦敦出发,横跨欧洲,取道巴格达由陆路穿越伊斯兰世界,再经印度、东南亚、中国抵达日本参加太平洋国际学会的年会;返程是由日本到中国,之后穿越西伯利亚回到欧洲。此次行程使用的交通工具不可能是 ()

A. 轮船

B. 汽车

C. 火车

D. 宽体客机

二、选择题 II (本大题共 12 小题,每小题 3 分,共 36 分。每小题列出的四个备选项中只有一个是符合题目要求的,不选、多选、错选均不得分)

7. [原创]“敬天保民”思想是周初期统治的基本政治和治国方针,认为“上天”只把统治人间的“天命”交给那些有“德”者,一旦统治者“失德”,也就会失去上天的庇护,新的有德者即可以应运而生,取而代之,作为君临天下的统治者应该“以德配天”。上述思想 ()

①以朴素的唯物观解释自然

②反映周人对商亡教训的借鉴

③一定程度体现了“以人为本”

④有效限制了西周时期的君权

A. ①②

B. ②③

C. ①③

D. ②④

8. [原创]金世宗言:“朕观唐史,惟魏徵善谏,所言皆国家大事,甚得谏臣之体。”“见光武所为,人有所难能者。……此其度量盖将大有为者也,其他庸主岂可及哉。”这说明女真统治者 ()

A. 积极吸取以往历史经验教训

B. 以华夏正统地位自居

C. 学习汉族王朝的典章制度

D. 希望通过汉化维护统治

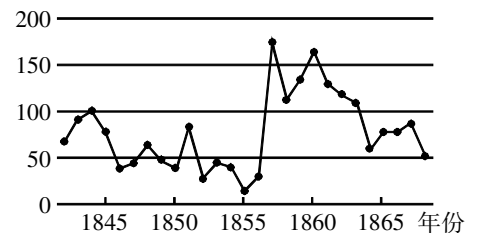
9. [改编]如图为 19 世纪中期英国《伦敦新闻画报》对中国报道的文章数量(篇),对图中最高峰值数据出现的原因分析正确的是 ()

A. 中英之间的冲突升级

B. 太平天国运动爆发

C. 洋务运动引发西方关注

D. 瓜分中国矛盾尖锐



10. [原创]1928 年,国民政府掀起改订新约运动,时论这样评价某一条约:“凡中国政府所装运之一切军用物品以及军械、军火,通过东京境内时,均应免纳任何税捐。越南船只除军舰及装运军队、军械、军火各船只外,其他船只所载货物,通过中国之境者,于入境时得免任何税捐。此则两相比较,我国免税者为军火,彼国免税者为一切货物,而通过境域,我国仅指东京一处,彼国通航船只涉及我国龙州、高平,所经地方甚广,且得自由航行之权,于我国权利不无损失。”由此可知,当时中国 ()

A. 开始丧失自主调整税率的权力

B. 对外通商的环境得到极大改善

C. 在关税自主权上取得一些进展

D. 航运权受片面最惠国待遇影响

11. [原创]改革开放以来,浙江温州地区以家庭工业和专业化市场的方式发展非农产业,从而形成“小商品、大市场”的发展格局,这种模式被称为“温州模式”。下列选项中,表格所述现象的成因是 ()

1980 年	市民章华妹领取我国第一份个体工商业营业执照(第 10101 号)
1983 年	永嘉桥头纽扣市场创建“东方第一纽扣市场”
1984 年	26 个农民自愿入股,创办全国第一个股份合作制企业——瓯海登山鞋厂
1984 年	温州被批准为全国首批 14 个沿海港口开放城市之一
1987 年	全国第一个民营企业地方规章——《温州私人企业管理暂行办法》颁布
1988 年	温州市政府颁发《温州市鼓励台湾同胞投资的暂行规定》

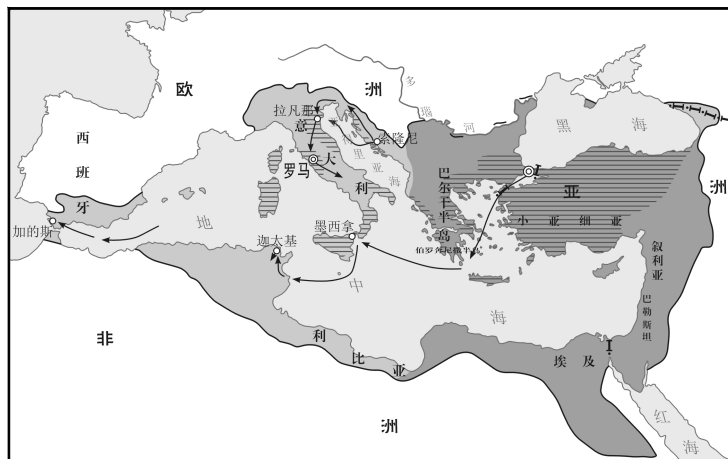
A. 经济体制改革的展开

B. 城市改革全面展开

C. 现代企业制度的建立

D. 社会主义市场经济体制目标的确立

12. [改编]下图为某帝国疆域图,图中所示帝国 ()



- A. 开创大约 300 年的“希腊化时代”
 B. 为古典文化的保存作出了贡献
 C. 有“东西文化交流的桥梁”的赞誉
 D. 恢复了罗马帝国全盛时期疆域
13. [原创]有学者认为:卢梭的天赋人权思想唤起了在枷锁下面失去一切的奴隶们摆脱枷锁的强烈愿望,响亮地喊出了“不自由,毋宁死”的口号,他的“人是生而自由的,但却无往不在枷锁之中”这句悲愤的名言,使无数革命者对专制制度抱定了“是日曷丧,与汝偕亡”的决心走向战场。这主要说明 ()
- A. 卢梭成为法国早期资产阶级革命的领袖
 B. “理性”是卢梭这个时代思想的精神内核
 C. 卢梭对未来社会提出了一些基本政治构想
 D. 天赋人权思想激励着人们为自由而奋力抗争
14. [原创]1914 年秋,正当一个又一个欧洲国家卷入第一次世界大战的大屠杀之际,英国外交大臣格雷伯爵评论道:“灯光正在整个欧洲熄灭。”对此,有学者认为他的评论很有道理,而且其正确的程度比他当时所能预见的还大得多。第一次世界大战注定要使格雷伯爵所熟悉的整个欧洲变成废墟。它毁灭了数世纪之久的王朝,代之而起的是格雷伯爵这样的贵族政治论者所朦朦胧胧意识到的新的领袖、新的制度和新的意识形态。其中,“新的意识形态”指 ()
- A. 极端的民族主义思想
 B. 国联的“全体一致”原则
 C. 美国威尔逊的“十四点原则”
 D. 俄国诞生的列宁主义

15. 如图漫画《先生,能带我进去吗?》发表于 1945 年 3 月,画中,罗斯福、斯大林和丘吉尔正在进入“安全新闻影院”,影院门楣上写着“投票权和否决权”(快速处理任何对和平的威胁,以及任何突发事件的权力),告示牌上写着“小孩”需有大人陪伴,否则不得窥探。对该漫画解读正确的是 ()



- ①反法西斯同盟国首脑建立战后国际秩序
 ②门楣上的文字说明安理会有权制裁侵略
 ③“全体一致”原则完善了集体安全体制
 ④雅尔塔体系带有明显的强权政治色彩
- A. ①②③
 B. ①②④
 C. ①③④
 D. ②③④

16. [原创]读图可知,二者反映的共同主题是 ()



墨西哥城三文化广场的碑文:“这不是任何人的胜利或失败,而是一个混血民族痛苦的诞生。”



韩国景福宫,始建于 14 世纪。得名于《诗经》“君子万年,介尔景福”。


- A. 殖民扩张与文化交融
B. 人口结构与族群变化
C. 人类迁徙与区域文化
D. 文明交流与传播方式

17. [原创]1997年,69个世界贸易组织国家签署了《全球基础电信协定》,该协议的目的在于约束各成员以电信限制其他成员提供服务(或对提供服务的行为造成障碍)的行为,在客观公正的基础上非歧视地向世界贸易组织成员承诺部分或全部开放国内的基础电信服务市场。据此可知,该协议的签署 ()
A. 推动了经济区域集团化的发展
B. 加剧了国际金融市场的风险
C. 推动国际服务贸易市场的开放
D. 打破大国对国际贸易的主导
18. [原创]2015年4月,姚大力先生撰文,就汪荣祖先生主编的《清帝国性质的再商榷》一书(内容大致为2012年台北召开的“新清史”讨论会议的论文)进行批评,认为“新清史”中颇有值得中国历史学者学习之处,而“汉化”理论已属“旧故事”。继而汪荣祖亦撰文《为新清史辩护须先懂得新清史》回应了姚大力的批评。此后双方又有往还,这一争论由于参与者在学界均位望隆重而格外引人注目。对此认识正确的是 ()
A. 对于有争论的历史观点,需要考古学的进展来证实与证伪
B. 历史的基本事实通过借助多种研究路径,有可能逐步澄清
C. 教科书的权威性大于学者的观点,故应以教科书的观点为准
D. 历史学应像其他社会科学一样提倡百家争鸣,避免价值判断

三、非选择题(本大题共4小题,共52分)

19. (12分)[改编]阅读材料,完成下列要求。

材料一 商鞅方升(右图)因其详实的铭文、精密的制作和明确记录的容积而被认为是不可多得的国家级标准器。商鞅方升铭文如下:



①“(孝公)十八年,齐遄(率)卿大夫众来聘(商议大事),冬十二月乙酉,大良造(秦国官职)鞅,爰积十六尊(寸)五分尊(寸)壹为升。

②“重泉”。(方升首次颁发地点,今陕西蒲城)。

③“廿六年(公元前221年),皇帝尽并兼天下诸侯,黔首大安,立号为皇帝。乃诏丞相状、绾:法度量则不壹,歉(嫌疑)者,皆明壹之。(秦始皇统一度量衡的诏书)

④“临”。(重新颁发的新征服地区)

材料二 关于古代基层的治理,有以下两种观点:

①有学者认为“在宋代以后的历代王朝统治中,国家的行政治理局限在县一级,县以下基本属于自治无为的状态,官员不负责治理,乡绅构成了县以下社会秩序的主要支配阶层。所谓国权不下县,县下皆自治,自治靠伦理,伦理靠乡绅”。

②从东汉一直到中古时期唐朝甚至宋朝早期的基层社会,常见情况还是由皇权控制编户齐民,根本就没有后世所谓的那种“乡绅自治”的影子。

——据温铁军《半个世纪的农村制度变迁》等整理

(1)根据材料一,说明商鞅铜方升的历史研究价值,并分析其推行的历史意义。(6分)

(2)阅读材料二,结合宋代相关史实,从基层治理和社会救济两个角度,任选一种观点进行阐释。(6分)

20. (12分)[原创]以币观史,可知兴替。阅读材料,完成下列要求。

材料一 受全球性经济危机的影响,加上“九一八”事变后失去了东北市场,中国的经济更加低迷。1934年,美国总统罗斯福实施《购银法案》,导致中国白银大量外流,出现了非常严重的通货紧缩。国民党政府于1935年聘请英国的李滋·罗斯担任财政顾问,并开始实行币制改革。具体内容包括通过管理货币制度发行不兑换纸币,将新纸币与英镑挂钩。国民党政府将之前各家银行发行的纸币(银行券)和白银回收,将中央银行、中国银行、交通银行发行的法币作为统一的货币。这意味着最后一个坚持银本位制的国家也转变为金本位制。中国的纸币由英镑提供价值担保,所以英国和美国自然对中国经济有很强的影响力,而日本为了保护自身在东北与华北的既得利益,于1937年全面发动侵华战争。

——[日]宫崎正胜《世界史就是一部货币史》

材料二 1947年春,人民解放军取得了一系列重大胜利。随着各解放区不断扩大和巩固,各解放区开始连成一片,彼此之间贸易往来、物资交流日益增多。加之野战军跨区作战频繁,币制不统一、货币比价不固定等问题,给野战军跨区作战造成了困难。成立统一的银行,发行统一的货币迫在眉睫。1947年4月,中共中央同意设立华北财经办事处。石家庄解放后,华北人民政府成立。1948年12月1日,中国人民银行在石家庄正式挂牌,开始统一发行人民币。中国人民银行钞票的发行,使各解放区货币得到逐步统一,从此各解放区在财政金融上连为一体,加速了国民政府经济的崩溃和政权的瓦解,为新中国成立打下了坚实的物质基础。

——王纪洁《迎接新中国的曙光:首批人民币的印制和发行》

(1)根据材料一,概括1935年国民政府实行法币改革的主要原因,并简述法币改革产生的主要影响。(6分)

(2)根据材料二,概括1947年以来中共中央推动人民币发行的举措。结合所学,分析人民币发行的历史意义。(6分)

21. (12分)[改编]阅读材料,完成下列要求。

材料一 1931年,苏联购买的机器设备约占世界机器设备出口总量的30%,1932年占到50%。与此同时,苏联大量聘请外国专家和技工,1932年大约有两万西方技术人员在苏联工作。斯大林承认,苏联约有2/3的大型企业是在美国援助下建成的,面对有人质疑苏联大部分大型企业利用西方的先进技术,斯大林表示,社会主义的经济并非“绝对闭关自守,绝对不依赖周围各国”……基于“工业化”的发展命运和前景,斯大林设想把集体农庄变成“国家的粮食工厂”,1930年1月5日,联共(布)中央通过了一项重要决议:《关于集体化速度和帮助集体农庄建设的办法》把全国划为三类地区规定了农业集体化的期限,正式提出了全盘集体化的任务。

——沈志华《一个大国的崛起与崩溃》等





材料二 20世纪五六十年代,美国政界人士、经济学家带动科技人才观发生两重变革:一是将科技人才提升至影响经济发展和国家间竞争的决定因素;二是赋予其等同于商品和资产的属性,直接影响了美国对科技人才的需求标准。美国政府和企业合作,将移民作为科技人力资源的重要补充,利用大规模的商业宣传、海外招聘以及“凭才能换公民身份”策略,建立起对全球人才优先挑选配置的特权。英国、加拿大等主要西方发达国家效仿美国的改革,到20世纪60年代末多方多维参与的、常态化的国际人才竞争格局基本形成,重塑了国际移民的流动方向和特征。

——任慈《20世纪五六十年代美国对国际科技人才的争夺及其影响》

(1)根据材料一,概括苏联现代化建设的背景,结合所学知识写出苏联在 20 世纪 30 年代取得的工业成就。(6 分)

(2)根据材料二并结合所学知识,分析 20 世纪五六十年代美国争夺国际科技人才的原因及影响。综合材料一、二,谈谈当前中国式现代化建设可以借鉴哪些经验教训。(6 分)

22. (16 分)[原创]书籍是照亮人类精神的明灯,在历史长河中,书籍形式经历了千年嬗变。阅读材料,完成下列要求。

序号	图片	说明
图 1		《吉尔伽美什》第十一块泥板,发现于亚述巴尼拔图书馆遗址
图 2		唐咸通九年(868 年)雕版印刷《金刚经》(部分)
图 3		《谷登堡圣经》,谷登堡于 1452—1455 年在德国采用活字印刷术印刷
图 4		中国国家图书馆、中国国家数字图书馆、国家典籍博物馆网站首页(局部)

(1)根据材料并结合所学,指出图 1 所示文物可直接用于研究哪些历史主题。从文化交流角度指出图 2 所示文物的历史价值。(4 分)

(2)根据材料和所学知识,以“书籍与文化”为主题,写一篇历史小论文。(要求:自拟标题,史实列举充分,观点陈述正确,结论合理)(12 分)

浙江省新高考选考信息优化卷(四)

历史

姓名: _____ 准考证号: _____

本试题卷共 6 页, 满分 100 分, 考试时间 90 分钟。

考生注意:

1. 答题前, 请务必将自己的姓名、准考证号用黑色字迹的签字笔或钢笔分别填写在试题卷和答题纸规定的位置上。
2. 答题时, 请按照答题纸上“注意事项”的要求, 在答题纸相应的位置上规范作答, 在本试题卷上的作答一律无效。
3. 非选择题的答案必须使用黑色字迹的签字笔或钢笔写在答题纸上相应区域内, 作图时可先使用 2B 铅笔, 确定后必须使用黑色字迹的签字笔或钢笔描黑, 答案写在本试题卷上无效。

一、选择题 I (本大题共 6 小题, 每小题 2 分, 共 12 分。每小题列出的四个备选项中只有一个是符合题目要求的, 不选、多选、错选均不得分)

1. [原创]右图是良渚刻符陶罐以及陶罐上的部分符号。该陶罐距今约 5300—4300 年, 陶罐上一共刻画了 12 个符号, 这一现象在良渚出土陶罐中并不是孤例。《良渚文化刻画符号》一书里共收录有 700 多个类似符号, 这些符号能够说明 ()




- A. 早期象形文字已经成熟 B. 社会贫富分化开始出现
C. 良渚先民生活生产状况 D. 手工业已从农业中分离

2. [原创]西汉初年“民亡盖藏, 自天子不能具醇驷, 而将相或乘牛车”, 到汉武帝即位时“京师之钱累巨万, 贯朽而不可校。太仓之粟陈陈相因, 充溢露积于外”。汉初这种局面变化的主要原因是 ()

- A. “天下之事无小大皆决于上” B. “罢黜百家, 独尊儒术”
C. “扫除烦苛, 与民休息” D. “虽置三公, 事归台阁”

3. [原创]右图为 19 世纪法国《小日报》刊登的一幅讽刺漫画: 中国版图被画成一块大蛋糕, 蛋糕上写着“CHINE”(法文“中国”), 从左到右依次是英国女王维多利亚、德国皇帝威廉二世、俄国沙皇尼古拉二世, 以及法国人和日本武士。据此推断, 该漫画的创作背景是 ()



- A. 鸦片战争后
B. 第二次鸦片战争后
C. 中法战争后
D. 甲午战争后

4. [原创]印度河是世界上最长的河流之一。但在 18 世纪之前, 人们根本没有想到这条藏身于沙漠、人迹罕见的河流曾创造过极其灿烂的文明。下列属于古印度文明成就的有 ()

- ①提出了按位计值的方法 ②制定了世界上第一部太阳历 ③尚未被释读的印章文字 ④祭司在金字塔上观察天象
- A. ①② B. ①③ C. ②③ D. ②④

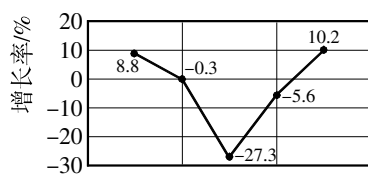
5. [原创]某一时期, 欧洲的一些思想家认为对自然科学的研究并不妨碍人民对上帝恩赐的追求, 但理性不是独立存在的, 最终必须承认超理性的、超越人类的真理标准, 理性思维需要受宗教和《圣经》权威所指导。下列人物最有可能属于此类思想家的是 ()

- A. 亚里士多德 B. 托马斯·阿奎那 C. 哥白尼 D. 孟德斯鸠

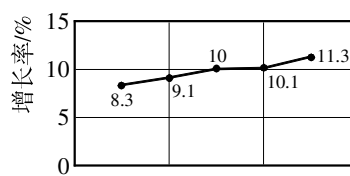
6. [原创]第一次世界大战结束后欧洲一位外交官在日记中写道：“那些曾经被视为理所当然的规则和格局，如今都发生了翻天覆地的变化。大国的兴衰，国家的分裂与新生，以及各种新思潮的涌动，让整个欧洲乃至世界都陷入了一种既充满希望又充满不确定性的动荡之中。”以下对当时的世界秩序说法错误的是（ ）
- A. 欧洲的“四大帝国”走向解体
B. 资本主义一统天下局面被打破
C. 欧洲完全丧失了世界优势地位
D. 资本主义的殖民体系遭受冲击

二、选择题 II (本大题共 12 小题,每小题 3 分,共 36 分。每小题列出的四个备选项中只有一个是符合题目要求的,不选、多选、错选均不得分)

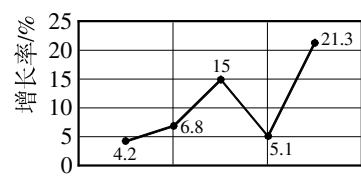
7. [改编]北魏兰陵长公主遭驸马刘辉殴打致流产,朝廷就如何判处刘辉展开激烈辩论:一方以尚书省官员为代表,坚持以父系家族伦理为标准,以杀子罪判处四至五年徒刑;另一方则是代表灵太后意志的门下省官员主张以谋反大逆罪判处死刑。最终皇帝下诏支持门下省意见。这一判决表明（ ）
- A. 尚书省行政职能削弱
B. 法律儒家化过程曲折
C. 皇权受外戚势力左右
D. 门下省司法职能增强
8. [原创]中国第一历史档案馆档案中有大量关于清代外国商船和贡船遇难救助的记载,如乾隆二十六年九月十五日广东巡抚托恩多的奏折反映,有瑞典商船遭风货沉,水手遇难,请求按惯例抚恤求助。材料旨在说明当时（ ）
- A. 只开放广州一地对外通商口岸
B. 已经形成维护海上贸易秩序的政策和措施
C. 朝贡贸易是对外贸易的重要方式
D. 中国与瑞典等欧洲国家经济文化交流频繁
9. [原创]1912 年,中国银行在北京开业,并赋予了中央银行的地位及相应特权。第一次世界大战时期,北京、天津还增设了许多商业银行。北京和天津的金融地位已高于其他地区。……1928 年,北平(当年北京改名为北平)某银行的营业报告写道:“北平入春以来,因南北军事未经解决,交通又复阻滞,以致银根枯竭,各业均受影响,倒闭时有所闻。”据此分析,银行等新的商业经营形式在近代中国难以发展的根本因素是（ ）
- A. 半殖民地半封建的社会性质
B. 中国资本家的小农意识深厚
C. 西方列强资本输出逐渐增多
D. 战事频繁导致社会动荡不安
10. 某同学在整理现代中国三个时间段(1954—1958 年、1959—1963 年、2001—2005 年)国内生产总值增长率变化示意图的笔记时,由于标识不清,图与时间阶段无法一一对应。对以下三幅示意图解读正确的是（ ）



图甲



图乙

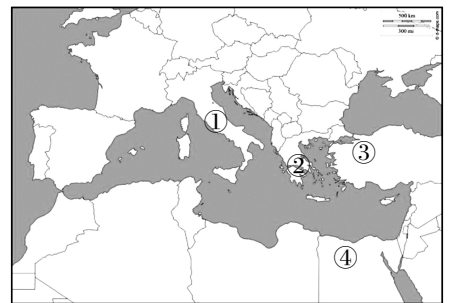


图丙

- A. 自然灾害严重是导致图甲时期经济负增长的主因
B. 图乙时期中国加入 WTO 促进经济快速稳定发展
C. 图丙时期社会主义市场经济体制建立经济波动剧烈
D. 图丙时期“八字方针”“三线建设”现代化成就突出
11. [改编]1972 年,中美贸易关系刚恢复时的双边贸易额只有 1 288 万美元,其中中国进口 331 万美元,出口 957 万美元。1973 年 5 月,中美两国政府在对方首都互设联络处并派驻主管贸易的商务官员;同年美国成立美中贸易全国委员会以推动美中贸易关系。到 1978 年,中美双边贸易额增长到 9.9 亿美元,是 1972 年的 76.7 倍,其中中国进口 7.2 亿美元,出口 2.7 亿美元。材料主要反映了（ ）
- A. 中国对外开放迈出重大步伐
B. 中美双方努力谋求友好合作关系
C. 中国开展全方位外交取得了成效
D. 中美关系正常化推动贸易往来频繁

12. 2019年,中共中央、国务院印发了《粤港澳大湾区发展规划纲要》,进一步提升粤港澳大湾区在国家经济发展和对外开放中的支撑引领作用,支持香港、澳门融入国家发展大局,让港澳同胞同祖国人民共担民族复兴的历史责任、共享祖国繁荣富强的伟大荣光。建设粤港澳大湾区反映了中央政府 ()
- A. 始终坚持“和平统一”原则
B. 开始注重维护国家安全
C. 不断丰富“一国两制”实践
D. 力促港澳之间交流合作

13. [原创]地中海周边地区在世界古代文明发展进程中有着特殊的意义。下列说法正确的是 ()



- A. ①:于公元1世纪产生了基督教
B. ②:于1—2世纪空前繁荣的中心
C. ③:是冶铁技术的最早发源地
D. ④:产生了著名的洪水和方舟传说
14. [原创]《玩偶之家》创作于1879年,故事讲述了女主人公娜拉为给丈夫海尔茂治病,瞒着丈夫伪造签名向柯洛克斯泰借钱,无意犯了伪造字据罪。多年后,海尔茂升职经理,开除了柯洛克斯泰,柯洛克斯泰拿字据要挟娜拉,海尔茂知情后勃然大怒,大骂娜拉,说自己的前程全被她毁了,而当危机解除后,又立刻恢复了对妻子的甜言蜜语,娜拉认清了自己在家庭中“玩偶”般从属于丈夫的地位,最终断然出走。该故事折射出 ()

- A. 工业革命后女性社会地位的变化
B. 近代西方法律强调保障个人权利
C. 近代西方政治制度逐渐走向成熟
D. 戏剧作品未能充分表现社会现实
15. [原创]美国南北战争期间,为战胜南方叛乱势力,林肯政府实行义务兵役制。在长达4年的时间内,联邦政府控制的区域内共有210万青壮年男子(占人口总数的10%)参军。为应对这种局面,美国国会于1864年通过了《合同劳工法》。据此推断,该法案 ()

- A. 废除了美国的黑奴制度
B. 有利于华工移民美国
C. 宣布种族歧视政策为非法
D. 使美国建立文官制度
16. [原创]从1921年起,列宁对商品货币关系的观点发生了重大改变。列宁指出,在农村还没有实行共产主义的物质基础之前,决不能过早地提出向农村推行共产主义目标。共产主义与商业并非“风马牛不相及”。在大机器工业还没有充分发展的条件下,商业是“千百万小农与大工业之间唯一可能的经济联系”“是无产阶级先头部队同农民结合的唯一可能的环节”。为此,苏俄 ()

- A. 按共产主义原则调整产品生产和分配
B. 通过粮食税等市场机制建立工农联盟
C. 通过租让制等形式鼓励私营企业发展
D. 采取强制手段要求农民加入集体农庄
17. [原创]2011年,大英图书馆“历史民族志记录”系列资料入选联合国教科文组织的“世界记忆名录”。“历史民族志记录”对各地口传文化进行田野录音,所有藏品均是各个领域语言、音乐和其他文化实践的独特范例。资料包含了1898年剑桥大学资助探险队前往位于澳大利亚和巴布亚新几内亚之间的托雷斯海峡群岛探险过程中的录音,这个录音是英国制作的首批民族志记录。此外,1901年在乌干达录制的录音是撒哈拉以南非洲地区的首批录音。“历史民族志记录”入选名录 ()

- A. 推动了全球化发展进程
B. 顺应了社会信息化趋势
C. 促进了区域间文化交流
D. 保护了世界文化多样性

18. [原创]恩格斯曾说:“即使只是在一个单独的历史实例上发展唯物主义的观点,也是一项要求多年冷静钻研的科学工作,因为很明显,在这里只说空话是无济于事的,只有靠大量的、批判地审查过的、充分地掌握了的历史资料,才能解决这样的任务。”对此,下列说法正确的是 ()
- A. 史学家经常要面对“攻其一点、不及其余”的无奈
B. 史学需通过研究“故纸陈编”达到史料实证的目的
C. 史家应“于全般的历史事实中间”寻求普遍的规律
D. 历史学应想方设法成为“与各自然科学同列之事业”

三、非选择题(本大题共4小题,共52分)

19. (12分)[原创]国家形态变化对国家治理提出新要求和挑战,通过改革可以调整治理模式。阅读材料,完成下列要求。

材料一 先秦秦汉是中国古代国家形态与国家治理的重要发展阶段。夏商周三代还不具有完整意义上的领土国家性质,原因在于邦国形态广泛分布与国野制度的长期存在;战国时期,随着生产力进步和兼并战争加剧,领土国家进一步发展,各国的边疆概念也进一步实体化。领土国家的出现,使国家治理逐渐向社会基层渗透。秦汉国家形态与国家治理体系以大一统中央集权为突出特征,在继承先秦政治成果的基础上,治理能力有重大提升。

——卜宪群《先秦秦汉国家形态和国家治理的历史演变》

材料二 梁启超的《王荆公》是20世纪研究王安石及其新法影响最为持久的著作,从1908年(宣统3年)初次印行后迄今有约10种版本行世,自南宋以降至元明清时期,对王安石及其变法的评议一直以否定性评议为主流,直到梁启超的《王荆公》才改变南宋初以来的这种局面,为王安石及其变法彻底翻案。梁启超给王安石及其新法以全新的评价,他把青苗法和市易法看作近代“文明国家”的银行,把免役法视作“与今世各文明国收所得税之法正同”“实国史上,世界史上最有名誉之社会革命”,还认为保甲法“与今世所谓警察者正相类”,“今世欧洲诸国,其所设施,往往与荆公不谋同符”。其后梁启超的肯定性评价为大多数人所遵奉,而成为20世纪前半叶的主流观点。

——李华瑞等《论题:王安石历史地位沉浮透视》

- (1)根据材料一,结合所学,概括从先秦到秦汉时期国家形态出现的变化,指出秦汉时期推动“国家治理向社会基层渗透”的举措。(6分)

- (2)结合材料和所学,试评析梁启超对王安石变法的“全新评价”。(6分)

20. (12分)[原创]先进的中国人为挽救民族危亡,学习西方,顺应时代潮流。阅读材料,完成下列要求。

材料一 孙中山认为,专制政治只能在民众还无知的野蛮社会中存在,然而世界的进化由野蛮而达文明,人类心性的进化由无知而至有知,随着近代民智日开,民权终将取代专制。他谈到自己在清末领导的革命运动,尽管备历艰难,最后仍推倒了专制政体,创立了民国。“厥故何也?良以20世纪之潮流,民治主义之潮流也。潮流弥漫于全国,吾人起而顺应时势,以推翻彼专制魔王、人民公敌,自易如反掌。譬诸水到渠成,瓜熟蒂落,事有必至,理有固然;非文有特殊异能,乃由人心趋向之所致,亦即主义最后之获胜也。”

——金冲及《辛亥革命的前前后后》

材料二 1920年5月1日,李大钊等人在北京大学二院大讲堂召开庆祝“五一”国际劳动节大会,百余名北大师生和校役参加。当天,李大钊发表《“五一”运动史》一文,他痛切地介绍了世界劳工大会的情况:华盛顿劳工会议的成绩,虽然不能满足我们的希望,然而要他那四项一一适用到我们的劳工社会来,我们那些苦工人,也许可以得享些幸福。

……

我们在今年的“五一”纪念日,对于中国的劳工同胞,并不敢存若何的奢望,只要他们认今年的“五一”纪念日作一个觉醒的日期。

——韩毓海、陈澜《红楼:北京大学与中国共产党的创建》

(1)根据材料一,概括孙中山认为专制政体被推翻的主要原因。结合所学,从“民智”角度简述“主义最后之获胜”的历史意义。(7分)

(2)根据材料二,结合所学,简析李大钊等人在北京大学召开庆祝“五一”国际劳动节大会的主要因素。综合材料一、二,概括你对20世纪初中国进步人士一系列救亡图存运动的认识。(5分)

21. (12分)[原创]体育展现了人类身体和精神之美。阅读材料,完成下列要求。

材料一 英国的思想家吉登斯论及英国与现代体育的关系时说:“大多数现代体育(项目)基本上都是19世纪末20世纪初的创造。足球、英式橄榄球、曲棍球、网球和另外一些体育项目,其历史虽然久远,但它们直到19世纪才具有今天的形式……体育运动不仅有固定的竞赛场地,而且还产生了规则与规章,这些东西都是它们从前基本上没有的,体育运动在此之前要粗糙得多。”

——[英]吉登斯《现代性:吉登斯访谈录》

材料二 1988年汉城奥运会被韩国政府视为跻身于国际社会的一种手段,带有很强的政治色彩。在市政建设方面,汉城扩建了国际机场、整修了公路等,为3.4万人提供了就业机会。由于举办奥运会,汉城获得了4.6亿美元的盈余。在筹备和主办汉城奥运会过程中,韩国22家公司向组委会提供了23.6亿韩元的运动装备。韩国体育用品质量及其品牌知名度的提高使得体育用品出口得到迅速提高。韩国体育用品制造商赢得了数额巨大的销售合同以及独自使用30多个知名公司商标的权利。

——杨越《奥运会对主办城市的主要经济影响》

(1)根据材料一概括19世纪末20世纪初现代体育发展的表现;结合所学,说明此时现代体育发展的原因。(6分)

(2)根据材料二概括举办奥运会对韩国经济产生的积极影响。韩国在第二次世界大战后迅速成为工业化国家,结合所学知识,说明其实现工业化的路径。(6分)

22. (16分)[原创]阅读材料,完成下列要求。

材料一 苏伊士运河位于埃及东北部的苏伊士地峡上。1859年由苏伊士运河公司破土动工,1869年正式通航。1882年英国入侵埃及,占领运河区后,企图完全控制苏伊士运河。因该运河是重要的国际轨道,关系着各国的切身利益,所以,英国的企图遭到了西方列强的反对。但英国占领埃及后,在运河区驻军,严重损害了埃及的主权。埃及人民为了摆脱英国殖民统治,收回运河,进行了长期斗争。1956年,埃及总统纳赛尔宣布收回苏伊士运河主权。

——《普通高中历史地图册·经济与社会生活》

材料二 1845—1875年全球铁路发展概况。

地区	发展概况	1845年	1855年	1865年	1875年
欧洲	拥有铁路国家的数量	9	14	16	18
	超过1 000公里以上的国家数量	3	6	16	15
美洲	拥有铁路国家的数量	3	6	11	15
	超过1 000公里以上的国家数量	1	2	2	6
亚洲	拥有铁路国家的数量	0	1	2	5
	超过1 000公里以上的国家数量	0	0	0	1

——王鹏《世界经济不平衡研究》

材料三 1876年英国在上海修建的淞沪铁路通车(下图经重绘)。



(1)阅读材料一,结合所学概述苏伊士运河的重要地位,并指出埃及收回苏伊士运河的时代背景。(4分)

(2)根据材料二、三,结合相关史实,以“铁路与近代世界”为主题写一篇历史小论文,题目自拟。(要求:立论正确,史论结合,史实准确,逻辑清晰,表述成文)(12分)

浙江省新高考选考信息优化卷(五)

历史

姓名: _____ 准考证号: _____

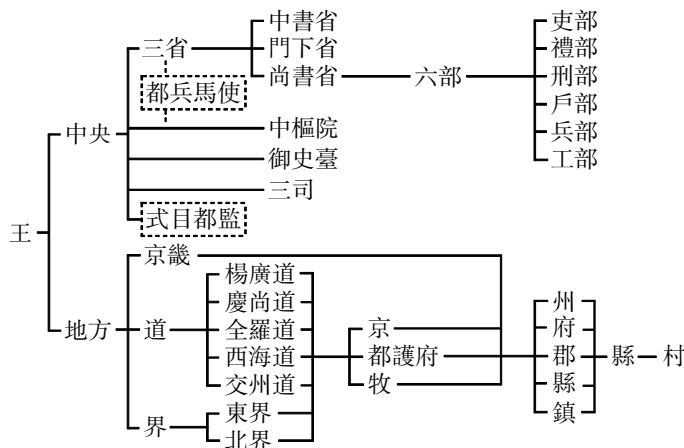
本试题卷共 6 页, 满分 100 分, 考试时间 90 分钟。

考生注意:

1. 答题前, 请务必将自己的姓名、准考证号用黑色字迹的签字笔或钢笔分别填写在试题卷和答题纸规定的位置上。
2. 答题时, 请按照答题纸上“注意事项”的要求, 在答题纸相应的位置上规范作答, 在本试题卷上的作答一律无效。
3. 非选择题的答案必须使用黑色字迹的签字笔或钢笔写在答题纸上相应区域内, 作图时可先使用 2B 铅笔, 确定后必须使用黑色字迹的签字笔或钢笔描黑, 答案写在本试题卷上无效。

一、选择题 I (本大题共 6 小题, 每小题 2 分, 共 12 分。每小题列出的四个备选项中只有一个是符合题目要求的, 不选、多选、错选均不得分)

1. [原创]2024 年度浙江省十大考古重要发现之杭州萧山鲁公桥遗址, 古代文化堆积自良渚文化时期开始直至明清时期, 出土了大量距今约 5000—4000 年的文物, 包括石器、陶器、骨器等, 其中陶器以夹砂红陶和泥质灰陶为主, 器型有鼎、豆、罐等, 还发现了碳化的稻谷遗迹。据此, 这一遗址的发现可用于研究 ()
 - A. 旧石器时代的生产生活
 - B. 原始农业的生产情况
 - C. 商周时期的青铜制造业
 - D. 春秋战国的社会变革
2. [原创]园林作为古代城市建设的重要载体, 反映了“地”与“人”的互动关系。明代中后期苏州府地方志记载, “吴人好治园亭, 虽闾阎下户亦饰小景”, 园林建设呈现“市井化”趋势, 园林数量在万历年间较弘治朝增长近三倍。这一现象主要得益于 ()
 - A. 文人雅士对山水意境的追求
 - B. 江南市镇经济的繁荣发展
 - C. 政府推行“一条鞭法”改革
 - D. 传统工匠制度的逐渐瓦解
3. 全国抗战开始后, 国立浙江大学师生在竺可桢校长带领下踏上了流亡办学的艰苦历程。两年多时间里, 浙大师生辗转浙江、江西、广西、贵州诸省, 行程 5 000 余里。这一壮举 ()
 - A. 推动了一二·九运动
 - B. 巩固了农村革命根据地
 - C. 打破了日军的“囚笼政策”
 - D. 鼓舞了全国人民的抗战决心
4. [原创]下图所示为古代亚洲某国官制示意图。据此分析, 当时最有可能是 ()



- A. 日本大化改新时期
- B. 朝鲜高丽王朝时期
- C. 拜占庭查士丁尼时期
- D. 印度德里苏丹时期

12. “金豆豆呀银豆豆,比不上咱的土豆豆。一张选票一颗豆,小心投在碗里头。”彦涵经典木刻版画《豆选》再现了新中国成立前夕农村选举时的场景:一个农民正小心翼翼地将落掉的豆子捡起,神态专注而认真;临近的拄拐老者,边走边瞧着手中举起的豆子,颤巍巍地走向选举的地方。对该“场景”解读正确的是 ()



- A. 广大人民积极投入中华苏维埃政权建设
 B. 农民积极参加农村的土地改革运动
 C. 解放区人民政权是“豆选”的政治基础
 D. “三三制”原则加强民主政权建设
13. 2024年,中国特色大国外交持续为世界注入强大信心和稳定力量。从积极斡旋推动巴勒斯坦14个派别齐聚北京达成内部和解,为持续升级的中东局势带来希望,到积极参与并推动非洲联盟在地区事务中发挥更大作用,助力非洲发展;从中非合作论坛北京峰会顺利召开,为发展中国家之间开展互利合作提供了有益经验,到积极推动上合组织在维护地区安全与稳定中发挥关键作用;从金砖国家领导人第十六次会晤在俄罗斯喀山举行,为完善全球治理贡献“全球南方”方案,到在二十国集团峰会等国际平台上积极倡导多边主义和全球经济治理改革。上述外交行动说明 ()

- A. 中国在国际事务中已居主导地位,引领着全球治理发展方向
 B. 中国通过多边和双边外交活动,全方位推动国际合作与发展
 C. 中国积极构建以联合国为核心的国际体系,维护世界和平
 D. 中国倡导的“人类命运共同体”理念,得到世界各国认同
14. [原创]某学者在其著作《泰晤士世界历史地图集》中写道,他们征服的规模无与伦比……亚洲和大部分欧洲的政治组织都变换了。许多地区的人民被灭绝或四散,永远改变了其种族特征。世界主要宗教的分布和力量也发生了变化。横越欧亚大陆的道路由一个政权所控制,旅行变得安全了。在中断了一千年之后,欧洲人又能进入亚洲和远东了。据此,该学者意在说明“他们(的)征服” ()

- A. 引发了较大规模的民族迁徙
 B. 促进希腊文化中心逐渐向东转移
 C. 客观上推动了东西方的交流
 D. 推动亚欧大陆形成多个文化区域
15. [改编]右图所示美国漫画《女斗士们》(1776年,作者不详),左边身着华丽服饰的妇女代表英国,右边印第安部族女酋长代表北美殖民地。代表英国的妇女表示:“我必须迫使你服从,你这个荡妇。”而印第安女酋长则不甘示弱地回击:“母亲,只要我活着,我就要自由,永恒的自由。”该漫画旨在反映 ()



- A. 印第安人对欧洲殖民者毫不妥协的斗争精神
 B. 北美殖民地人民对英国殖民统治的妥协态度
 C. 北美人民脱离英国殖民统治具有历史必然性
 D. 英国与北美殖民地之间经济利益的根本一致
16. [改编]20世纪60年代初,苏联在赫鲁晓夫的支持下,由《真理报》编辑部发起了一场大规模关于完善经济管理问题的讨论。此次讨论聚焦企业关心的生产效果、计划经济和物质刺激等方面,涉及对苏联社会主义经济中的利润率、成本、劳动生产率等多维度问题,并提出众多新见解。这场讨论 ()
- A. 受当时美苏冷战缓和局势的影响
 B. 体现了对社会主义经济的新探索
 C. 表明苏联经济体制改革时机成熟
 D. 推动苏联经济模式发生根本转变

17. [原创]右图所示是 2017 年 10 月 23 日出版的美国《THE NEW YORKER》杂志封面漫画,画面中众多机器人正在忙碌地工作,而人类却沦为乞丐向机器人乞讨。该漫画意在表达 ()



18. [原创]学者在研究中国古代城市发展时,收集到以下四则材料。下列项中,对表格材料的分析正确的是 ()

材料一 东汉画像砖上绘有市井图,画面中街道两旁店铺林立,行人往来。
材料二 唐代《两京新记》记载长安有东市、西市,“市署前有大衣行,杂糅货卖之所”。
材料三 北宋张择端《清明上河图》展现了东京城的繁华景象,有众多店铺、酒楼、茶肆等。
材料四 明代文人笔记称“金陵(南京)城中,货物填委,商贾辐辏,日夜喧嚣不已”。

- A. 材料一为实物史料,年代久远,因而价值不高
B. 材料二作为文献史料,能完整还原唐代长安商业布局
C. 材料三描绘生动,但不能直接作为研究北宋经济的证据
D. 材料四出自文人笔记,主观性太强,因而不可信

三、非选择题(本大题共 4 小题,共 52 分)

19. (12 分)[改编]西学东渐是中国学习西方文明的重要历史进程,反映出中华民族对现代化道路的艰难求索。阅读材料,完成下列要求。

材料一 明末时期,欧洲天主教耶稣会士成为西学东渐的使者。利玛窦发挥的作用尤为突出。他改换儒服,并自称儒生;还努力钻研儒家典籍,以经典中的天、上帝来称呼天主教的天主,认为二者名异实同。其他传教士大都积极遵循这种传教策略,哲学、语言学、地理学、美术、数学、水利、医学等西学得以在中国传播。此时,针对学风玄虚不实的趋势,士大夫群体提倡实学。以徐光启、李之藻、杨廷筠为代表的一批人主张吸收西学……“借异己之物,以激发本来之真性”达到“终实相生”的目的。

——袁行霈主编《中华文明史》

材料二 清末民初,朝野知识精英主张办学堂分普通、专门两类。先通过基础教育使学生“通晓中学大略”,继而令绝大多数人“专力讲求时政,广究西法”,任由少数“好古研精”者从事“专门著述之学”。1904 年张之洞创办武昌存古学堂培养中学专门人才。1907 年该学堂被清廷认定为样板学校并向全国推广。

在课程设置上,“救时局、存书种两义,并行不悖”成为地方学堂的办学方针……除了吸收“旧学寒儒”充当教师外,一些学堂还尝试将中学工具化……国文被更多用以研习科学,而与“传统之道”渐行渐远,“传统之道”地位也随之发生动摇。

——郭书愚《从“中学”人才培养看清末文化危机应对》

- (1)根据材料一,概括明末“西学东渐”的特点,结合所学指出徐光启、李之藻等人针对“西学”的主张。(6 分)

(2)根据材料二,结合所学,试对清末教育改革从背景、目的和作用三方面予以简要评价。(6分)

20. (12分)[原创]上海在新中国经济发展征程中,具有举足轻重的地位,铭刻着国家不同发展阶段的战略抉择与经济转型轨迹。阅读材料,完成下列要求。

材料一 “一五”计划开启后,上海工业格局迎来深刻变革。彼时,上海工业总产值以年均14.5%的增速稳步上扬,可在全国工业总产值的占比却从1952年的25.9%滑落至1957年的15.7%。身为老牌工业基地,上海虽未成为全国重工业核心,却主动扛起为全国重点建设项目供应机电设备、钢材等关键工业产品的重任,同步开启自身工业体系的调整与改造,力求融入国家工业化建设的宏大浪潮。

——《中国工业经济统计年鉴(1949—1984)》等

材料二 1990年4月,中共中央、国务院作出开发开放上海浦东地区的决策。从1990年到2000年,浦东新区累计完成国内生产总值2085.96亿元,工业总产值5929.91亿元,外贸出口总额255.41亿美元。2000年,浦东新区实现国内生产总值920.52亿元,人均GDP达到4174美元,高出上海平均水平20%以上;工业总产值2544.64亿元,占全市工业总产值的28.9%。浦东新区已经成为上海新兴高科技产业和现代工业基地,成为上海新的经济增长点,也成为中国90年代改革开放的重点和标志。

——董志凯、武力主编《中华人民共和国经济史》

(1)依据材料一,归纳“一五”计划时期上海经济发展呈现的特点,并结合20世纪50年代国内复杂多变的经济形势,剖析这些特点形成的根源。(6分)

(2)根据材料二,概括浦东新区经济腾飞的显著特征,结合所学分析“开发开放上海浦东地区”这一重大决策所蕴含的伟大意义。(6分)

21. (12分)“思想解放是社会变革的先导。”阅读材料,完成下列要求。

材料一 古希腊哲学认为万事万物都有原因和规律,宇宙秩序不是建立在神的意志之上,而是建立在规律和法则之上,形成了一个外在于宗教的思想领域;他们认为“人是万物的尺度”,人能够自主地认识世界、解释世界,主张用宗教以外的方式思考世界由什么构成、它从何处来等根本问题,给西方带来了一种贯穿几千年的思维特质。

——李筠《西方史纲》

材料二 马丁·路德修订的新版《圣经》和狄德罗等人编撰的《百科全书》等出版物都因由机器印刷得以大量出版,并通过文化市场的廉价销售而迅速地传遍欧洲各国,逐步瓦解了基督教会的文化霸权。16世纪以来,在欧洲社会变迁中,许多现代科学技术的发现改变了人们对于自然和人类本身的认识,解构了经院哲学以上帝为中心的宇宙体系。

——江宁康《启蒙运动与西方现代文明的起源》

(1)根据材料一,结合所学,列举后世所知的古希腊“三大哲人”,概括古希腊哲学家认识、解释世界的“思维特质”,并说明古希腊哲学产生于希腊人哪些方面的知识追求。(6分)

(2)根据材料二,概括16—18世纪教会“文化霸权”逐步瓦解的历史条件,并结合所学以启蒙运动为例论证“思想解放是社会变革的先导”。(6分)

22. (16分)[原创]边疆治理事关国家安全和全局。阅读材料,完成下列要求。

边疆治理是国家治理的重要组成部分。通过梳理中国历史上存续时间超过70年的“大一统”王朝就会发现,每个王朝其实都有“因俗而治”和“修教齐政”两个阶段,只不过清朝更加典型,具有突出的历史地位。清初以“因俗而治”的策略把边疆地区纳入版图,真正实现了“大一统”格局。待70~100年之后,边疆地区统治逐渐稳定,但也出现各种问题,为此,清廷逐步谋划“修教齐政”之策,即把边疆和内地治理通盘考虑,把中央权力进一步渗透到边疆地区,实现全国地方教化与治理的一体化发展,达到稳固统治的目的,形成治理的联动效应,体现治理中改革的智慧。清朝在“执两用中”思想的指导下,在“因俗而治”和“修教齐政”中找到了平衡之术,实践出了“清朝方案”,一定程度上实现了长治久安,这对推进当代中国国家治理体系和治理能力的现代化有着重要的借鉴意义。

——吕文利《清朝边疆治理的一体化方案》

(1)根据材料,结合所学,指出元朝经略西南、西北边疆的举措,分析元朝边疆管理呈现的趋向。(4分)

(2)根据材料,以“中国古代的边疆治理”为主题,列举汉朝、唐朝和清朝的相关史实,写一篇历史小论文。(要求:自拟标题,史实列举充分,观点陈述正确,结论合理)(12分)