

浙江省新高考选考信息优化卷(一)

政治

姓名: _____ 准考证号: _____

本试题卷共 6 页, 满分 100 分, 考试时间 90 分钟。

考生注意:

1. 答题前, 请务必将自己的姓名、准考证号用黑色字迹的签字笔或钢笔分别填写在试题卷和答题纸规定的位置上。

2. 答题时, 请按照答题纸上“注意事项”的要求, 在答题纸相应的位置上规范作答, 在本试题卷上的作答一律无效。

3. 非选择题的答案必须使用黑色字迹的签字笔或钢笔写在答题纸上相应区域内, 作图时可先使用 2B 铅笔, 确定后必须使用黑色字迹的签字笔或钢笔描黑, 答案写在本试题卷上无效。

一、选择题 I (本大题共 17 小题, 每小题 2 分, 共 34 分。每小题列出的四个备选项中只有一个是符合题目要求的, 不选、多选、错选均不得分)

1. [原创] 马克思认为, 剩余价值是指劳动者创造的超出其劳动报酬的价值部分, 是资本主义生产的直接目的和决定动机, 是资本增殖的关键。关于剩余价值理论, 下列理解正确的有 ()
- ①资本主义生产的实质是剥削工人的剩余价值 ②实现资本增殖是资本家雇佣工人的决定动机 ③资本主义生产的直接目的是为了满足不同社会需求 ④剩余价值学说揭示了人类社会发展的一般规律
- A. ①② B. ①③ C. ②④ D. ③④
2. [原创] 在庆祝中国共产党成立 100 周年大会上, 习近平总书记向全世界庄严宣告: “只有社会主义才能救中国, 只有社会主义才能发展中国!” 下列最能够体现“救中国”的是 ()
- ①推翻“三座大山”, 建立中华人民共和国 ②取得抗战胜利, 实现民族独立和人民解放 ③实行改革开放, 开创中国特色社会主义道路 ④完成社会主义改造, 确立社会主义基本制度
- A. ①② B. ①④ C. ②③ D. ③④
3. [原创] “四个自信”是中国特色社会主义的重要内容。以下“四个自信”对应正确的是 ()
- ①道路自信: 走中国特色社会主义道路实现社会主义现代化
②理论自信: 中国式现代化开创人类文明新形态
③制度自信: 以新型举国体制助力高水平科技自立自强
④文化自信: 坚持以习近平新时代中国特色社会主义思想为指导
- A. ①② B. ①③ C. ②④ D. ③④
4. [原创] “十四五”期间, 我国构建起全球最大、发展最快的可再生能源体系。可再生能源发电装机占比大幅增加, 能源自主供应的“基本盘”更加稳固、“含绿量”不断提升。上述成就表明我国 ()
- ①努力建设创新引领、绿色发展的产业体系 ②贯彻绿色发展理念, 推动能源结构绿色转型 ③减少对传统能源的依赖, 有效保障能源安全 ④以可再生能源建设为中心, 促进可持续发展
- A. ①② B. ①④ C. ②③ D. ③④
5. [原创] 2025 年九三阅兵中的“东风-41”洲际导弹、“歼-35”舰载机等“国之重器”, 主要由中国航天科技、中国航空工业等央企主导研发。这表明 ()
- ①国有经济是国民经济的主体, 控制国民经济命脉
②国有经济在关系国家安全的关键领域占支配地位
③公有制经济是推动我国科技自主创新的重要力量
④公有制经济在国防科技领域展现出强大的控制力
- A. ①② B. ①④ C. ②③ D. ③④

6. [原创]2025年5月,央行推出一揽子金融政策支持稳市场稳预期,包括降准、降息、创设支持科技创新的新政策工具等三大类十项举措。关于这些政策,下列传导正确的是 ()
- ①降低存款准备金率→市场货币供应量增加→促进国民经济发展
 ②降低公积金贷款利率→购房还贷利息减少→提振住房消费需求
 ③增加支农再贷款额度→降低银行放贷门槛→保障农户融资金额
 ④创设科技创新政策工具→提升企业创新能力→提高企业利润率
- A. ①② B. ①④ C. ②③ D. ③④


7. [原创]下表为我国2025年1—7月社会消费的部分数据(数据来源:国家统计局):

指标	绝对量/亿元	同比增长/%
社会消费品零售总额	284 238	4.8
按消费类型分		
餐饮收入	31 984	3.8
商品零售额	252 254	4.9
按经营地分		
城镇	246 669	4.8
乡村	37 569	4.7

【注】社会消费品零售总额中,实物商品网上零售额70 790亿元,同比增长6.3%。

- 对此解读正确的是 ()
- ①消费规模稳步扩大,持续促进经济发展 ②餐饮消费占比最高,成为消费主要类型 ③城乡消费差距收窄,协同发展态势良好 ④网购增速领跑增长,数字经济助力消费
- A. ①② B. ①④ C. ②③ D. ③④
8. [原创]国家育儿补贴制度实施方案公布,从2025年1月1日起,每孩每年发放育儿补贴3 600元,至其年满3周岁。育儿补贴 ()
- ①通过初次分配增加居民转移性收入 ②属于社会保险,是社会保障的核心 ③完全由政府财政承担,体现福利性 ④完善社会保障体系,保障民生需求
- A. ①② B. ①③ C. ②④ D. ③④
9. [原创]2025年党中央和国务院联合召开中央城市工作会议,首次提出建设“现代化人民城市”目标,强调“五个转变、五个更加”。为贯彻中央决策部署,多地出台政策支持“好房子”建设,推进老旧管线改造。这体现了 ()
- ①政府履行维护国家稳定职能 ②党和政府坚持民主集中制原则 ③改革是党的全部理论和实践创新的主题 ④党的领导是人民当家作主的根本保证
- A. ①③ B. ①④ C. ②③ D. ②④
10. [原创]近年来,我国的快递服务网络更加健全,新疆莎车的巴旦木、西藏林芝的松茸等特色农产品通过快递网络走向全国,东部地区的智能家电、时尚服饰也更快地送达边疆民族地区。这种“双向流动” ()
- ①增强了中华民族共同体意识 ②实现了各民族共同繁荣的目标 ③体现了民族区域自治制度的优势 ④巩固了社会主义新型民族关系
- A. ①③ B. ①④ C. ②③ D. ②④
11. [原创]人民代表大会制度更成熟定型。“十四五”时期,全国人大及其常委会制定法律35件、修改62件次等,还检查21部法律实施情况,代表们听取审议了“一府一委两院”88个工作报告等。由此可见 ()
- A. 全国人大及其常委会行使立法权 B. 人大代表统一行使国家权力
 C. 人大常委会是人大的职能机关 D. 人大行使法律监督机关的职权

12. [原创]2025年6月,村民委员会组织法修正草案提请审议,草案新增“从事村务工作一年以上的非户籍人员经村民同意可参加选举”条款,将为乡村治理注入新活力。该修订举措有利于 ()
- ①创新基层群众自治组织形式 ②发挥全过程人民民主的优势 ③完善基层政权组织的人员选拔机制 ④缓解乡村“能人难留”的治理难题
- A. ①② B. ①③ C. ②④ D. ③④
13. [原创]我国科研人员为研制“黄金瞳”光电倍增管,面对国外技术封锁,开展千万次试验,从材料选择、工艺优化等环节入手,最终攻克金属薄膜核心技术。这一过程表明 ()
- ①实践是认识的来源,技术突破源于大量试验实践 ②认识具有反复性,认识复杂技术必须经过多次反复 ③量变是质变的必要准备,质变是量变的必然结果 ④关键环节至关重要,部分的功能决定整体的功能
- A. ①② B. ①③ C. ②④ D. ③④
14. [原创]从20世纪80年代末开始,敦煌研究院开始探索文物数字化保护手段,“数字敦煌”项目通过高精度扫描,让千年艺术在虚拟世界获得永生。由此可知 ()
- A. 正确发挥主观能动性可以突破客观条件的限制
B. 人为事物的联系可以脱离自在事物的联系而存在
C. 人们可以根据固有联系建立具体联系以实现目标
D. 矛盾具有同一性,文物保护和技术创新可以统一
15. [原创]下列诗句与漫画《尽情吃吧》(作者:于昌伟)蕴含的哲理最接近的是 ()
- ①千淘万漉虽辛苦,吹尽狂沙始到金 ②有无相生,难易相成 ③不识庐山真面目,只缘身在此山中 ④纸上得来终觉浅,绝知此事要躬行
- A. ①③ B. ①④
C. ②③ D. ②④
16. [原创]电影《浪浪山小妖怪》上映25天,总票房突破13亿元。它通过“无名小妖”的故事重构了西游史诗,赋予老故事新的架构、新的内涵,既有对“中国动画学派”经典底蕴的传承,又创新出当代的视觉表达与作品气质。这表明 ()
- ①文化创新要求继承传统、推陈出新 ②文化创新能够促进民族文化的繁荣 ③中华优秀传统文化是文化创新的源泉 ④发展文化事业必须以市场需求为导向
- A. ①② B. ①④ C. ②③ D. ③④
17. [原创]北京举办中轴线 Citywalk——解码古都世遗活动。多国外籍专家沉浸式体验中轴线历史脉络,了解北京中轴线遗产保护和活化利用情况,切身感受北京城市文化。这体现 ()
- ①中华文明与世界文明交流互鉴 ②中华文化源远流长、博大精深 ③文化交流能消除中外文化差异 ④传播城市文化彰显了文化自信
- A. ①② B. ①③ C. ②④ D. ③④



二、选择题 II (本大题共 6 小题,每小题 3 分,共 18 分。每小题列出的四个备选项中只有一个是符合题目要求的,不选、多选、错选均不得分)

18. [原创]近期,美国“选区重划”闹剧愈演愈烈:得克萨斯州共和党通过重划国会选区谋求选举优势,民主党抵制未果后在加利福尼亚州推动选区重划“反制”,利益集团也趁机游说影响选区划分。可见,美国政治中 ()
- ①政党通过影响选举规则谋求政治优势 ②利益集团以游说的方式操控政治决策 ③两党竞争的实质是资产阶级内部博弈 ④选举制度受资本力量影响而背离民意
- A. ①② B. ①③ C. ②④ D. ③④

19. [原创]2025年上海合作组织峰会于8月31日至9月1日在天津举行,被称为“史上规模最大的上合峰会”。关于上海合作组织,下列说法正确的是 ()
- ①是当今世界区域合作的典范 ②倡导平等、开放、合作、共享的“上海精神” ③践行以对话合作、共谋发展为宗旨的合作理念 ④是世界上幅员最广、人口最多的综合性区域合作组织
- A. ①② B. ①④ C. ②③ D. ③④
20. [原创]某微博用户魏某(A明星粉丝)曾举报何某发布A明星负面内容,何某遂在微博持续发布“嫌疑犯”等言论,并公布魏某私人照片及微博主页链接,相关内容阅读量最高达上万。魏某以名誉权被侵害为由诉至法院,要求何某赔礼道歉并赔偿精神损失。关于本案,下列说法正确的是 ()
- ①何某未提及魏某真名,不构成对魏某名誉权的侵害
②魏某负有举证责任,证据不足则将承担不利后果
③若何某言论属于对公共事件的合理评论,可能不构成侵权
④魏某未遭受身体伤害故不能获得精神损害赔偿金
- A. ①② B. ①④ C. ②③ D. ③④
21. [原创]2023年7月,63周岁的农民罗某(以务农为生)驾驶电动车与李某驾驶的轿车相撞,交警认定李某全责。罗某住院32天,经鉴定构成十级伤残(误工期180天)。李某车辆投保了交强险及300万元商业三者险。罗某起诉索赔误工费损失。下列说法正确的是 ()
- ①罗某虽超退休年龄,法院仍应支持其误工费请求
②罗某已超退休年龄,法院不应支持其误工费请求
③若不服一审判决,当事人可在判决生效前上诉
④若李某对事故责任认定不服,可向法院提起民事诉讼
- A. ①② B. ①③ C. ②④ D. ③④
22. [原创]近日,绍兴鲁迅纪念馆的“鲁迅夹烟”墙画引发争议。有游客投诉称吸烟形象不利于青少年教育,要求修改;广大网民则认为应尊重历史真实,保留原貌。对此,馆方表示将广泛听取意见后审慎决策。对此,下列说法正确的是 ()
- ①“我们应尊重历史真实,保留原貌”属于复合判断中的联言判断
②“该墙画反映历史真实”是“尊重历史真实就应保留墙画”的推理前提
③对“是否保留墙画”采取“听取意见后决策”的中间态度,违背排中律
④只要存在教育风险,就必须修改历史真实内容
- A. ①② B. ①③ C. ②④ D. ③④
23. [原创]“情绪化表达”是指在强烈情绪的驱动下,放弃理性思考而作出的表达,具有情绪浓度过高、理性认知过窄、言语表达过激的特征。下列说法正确的是 ()
- A. “情绪化表达就是表达情绪”犯了“定义过窄”的逻辑错误
B. “在强烈情绪的驱动下,放弃理性思考而作出的”是“情绪化表达”的定义项
C. “情绪化表达”包括愤怒发泄、受挫抱怨、过度兴奋等,犯了“越级划分”的错误
D. “情绪化表达损害人际关系或影响个人形象”和“不影响个人形象则损害人际关系”可同真

三、综合题(本大题共5小题,共48分)

24. [原创]2025年我国夏粮生产在极端气候条件下实现稳产高产,充分展现了中国特色社会主义制度优势。党中央将粮食安全纳入国家安全体系,制定《国家粮食安全中长期规划纲要》;建立党政同责的粮食安全责任制,各级党委统筹协调农业、财政等部门形成工作合力。国务院严格落实《粮食流通管理条例》,运用“互联网+监管”平台实时监测粮情;完善农业补贴制度,通过大数据精准识别受灾农户并发放救灾资金;支持农业科技创新,建设国家级数字农业示范区。《粮食流通管理条例》《乡村振兴促进法》《农业法》等相关法律法规的出台修订,为粮食安全保驾护航。

结合材料,运用《政治与法治》的相关知识,说明我国保障夏粮稳产高产的举措对推进依法治国的作用。(9分)

25. [原创]近年来,浙江安吉余村以就业补贴、“全球合伙人”计划、“两山梦想基金”等政策为支撑,吸引了大批青年“入乡共创”。他们贯彻“绿水青山就是金山银山”理念,有人投身生态农业,用科技培育绿色农产品;有人用短视频传播竹乡文化,让安吉白茶、竹编技艺走向全国;有人打造“星空研学基地”,让都市孩子在山林间感受自然之美;还有人组建“乡村规划师团队”,将生态理念融入民宿设计、步道建设,推动“美丽资源”转化为“美丽经济”。截至2025年初,余村共有60多个合伙人项目入驻,1200余名大学生来此创业工作。这些入乡青年说:“安吉的绿水青山,是我们追梦的舞台,更是责任的坐标。”

结合材料,运用《中国特色社会主义》《哲学与文化》的相关知识,回答下列问题:

(1)阐述入乡青年是如何在共建乡村事业中担当时代使命的。(4分)

(2)运用“实现人生价值”的相关知识,分析青年为何选择“入乡共创”。(8分)

26. [原创]某电商平台以“免费试用”字样诱导消费者开通“先用后付”,该服务由平台垫资,到货后从用户绑定账户自动扣款。平台在用户协议中仅以小字标明注意事项,消费者无需身份验证即可免密下单,且取消服务流程繁琐。14岁的初中生赵某使用母亲孙某注册的平台账号,在不知情的情况下开通该功能,下单购买价值4500元的数码产品,并在使用中不慎损坏。孙某发现后,立即联系平台,要求取消订单、全额退款,平台以“商品已使用、协议已生效”为由拒绝。

结合材料,运用《法律与生活》的相关知识,回答下列问题:

(1)电商平台的行为侵犯了消费者的哪些权利?请说明理由。(4分)

(2)孙某的诉求能否得到法院支持?请说明理由。(5分)

27. [原创]“邪修”原指修仙小说中不守正统规则的反派修士,如今演变为年轻人推崇的“反套路、省力气、实用”的问题解决方法。例如:传统糖醋排骨需炒糖色,而“邪修”用“棒打鲜橙”替代,炖煮后酸甜可口;学外语不再死记硬背,而是沉浸式体验或通过趣味阅读积累词汇。“邪修”现象反映了年轻人对抗内卷、追求高效灵活的生活方式。他们不拘泥于传统规则,善于跨界组合,在社交平台上分享“邪修”经验,形成独特的社交文化。

结合材料,回答下列问题:

(1)运用《逻辑与思维》的相关知识,分析“邪修”现象所体现的创新思维方法。(4分)

(2)从辩证思维的角度,就如何正确看待“邪修”现象提出一条建议。(2分)

28. [原创]2025年7月,世界人工智能大会发布《人工智能全球治理行动计划》(以下简称:《行动计划》),为全球人工智能治理从理念共识转化为实际行动注入了正能量。

当前,人工智能发展与治理处于关键阶段。中国在此时会同有关各方发出《行动计划》,彰显其推动全球治理变革的决心,为破解人工智能治理困境、构建更公平合理的全球治理体系提供了中国方案。《行动计划》以“同球共济、包容普惠”为核心理念,提出六大原则与十三项行动,包含“可持续人工智能”“赋能减贫”“绿色计算技术”等创新内容,强调通过合作让技术成为造福人类的国际公共产品,充分贯彻了“智能时代同球共济”理念。

与其形成鲜明对比的是,就在《行动计划》发布前三天,美国白宫发布《赢得竞赛:美国人工智能行动计划》,提出“防止对手坐享其成利用创新和投资成果”,“在国际治理机构中对抗特定国家的影响力”,“加强人工智能计算出口管制执法”,“对敏感技术实施严格的出口管制,鼓励合作伙伴和盟友遵循美国的管制措施”,显示出强烈的地缘政治色彩。

有人认为:在人工智能全球治理中,“技术竞争”与“同球共济”难以兼容。请结合材料,运用《当代国际政治与经济》中的相关知识,撰写一篇短文驳斥该观点。【要求:①知识和材料运用恰当。(9分)②观点明确;条理清晰、逻辑严密;表达流畅;300字左右。(3分)】

浙江省新高考选考信息优化卷(二)

政治

姓名: _____ 准考证号: _____

本试题卷共 6 页, 满分 100 分, 考试时间 90 分钟。

考生注意:

1. 答题前, 请务必将自己的姓名、准考证号用黑色字迹的签字笔或钢笔分别填写在试题卷和答题纸规定的位置上。

2. 答题时, 请按照答题纸上“注意事项”的要求, 在答题纸相应的位置上规范作答, 在本试题卷上的作答一律无效。

3. 非选择题的答案必须使用黑色字迹的签字笔或钢笔写在答题纸上相应区域内, 作图时可先使用 2B 铅笔, 确定后必须使用黑色字迹的签字笔或钢笔描黑, 答案写在本试题卷上无效。

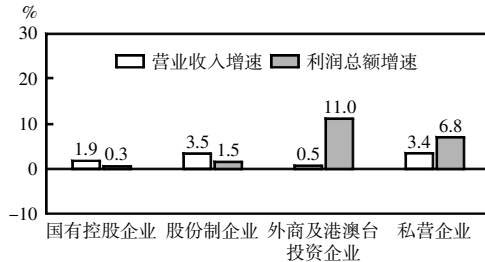
一、选择题 I (本大题共 17 小题, 每小题 2 分, 共 34 分。每小题列出的四个备选项中只有一个是符合题目要求的, 不选、多选、错选均不得分)

1. 马克思在《资本论》中写道:“从直接生产者身上榨取无酬剩余劳动的独特经济形式, 决定了统治和从属的关系, 这种关系是直接从生产本身中生长出来的, 并且又对生产发生决定性的反作用。”上述论述 ()
- ①仅从正义和理性原则出发揭露资本主义的弊端 ②揭示了无产阶级与资产阶级利益的根本对立
③为未来无产阶级及其政党指明正确前进路径 ④运用唯物史观分析资本主义运行的特殊规律
- A. ①② B. ①③ C. ②④ D. ③④
2. 1951 年秋后, 浙江省委决定试办以土地入股、统一经营为特征的初级农业生产合作社。1955 年, 我国颁布《关于农业合作社问题的决议》, 浙江开展大规模农业合作化运动, 掀起了兴办高级农业合作社的高潮。这些举措 ()
- ①理顺了农村生产关系, 促进了农村生产力的发展 ②是中华民族最为广泛而深刻社会变革的具体行动
③解决了阶级矛盾, 使社会基本矛盾发生根本变化 ④使得我国实现了从新民主主义向社会主义的转变
- A. ①② B. ①③ C. ②④ D. ③④
3. [原创]义乌市是一座既有着悠久历史, 又充满现代气息的城市。当地某学校学生研学小组走出课堂, 深入挖掘本地与思政学科有关的学习资源。以下研学计划设计较为合理的是 ()
- ①参观 9000 多年前的桥头文化遗址, 探寻人类社会进入文明时代初期的历史文化
②参观陈望道(我国《共产党宣言》首译者)故居, 了解陈望道探寻“真理”、传播马克思主义的感人故事
③参观 1984 年建成的新马路小商品市场旧址纪念馆, 感受义乌人敢为人先、率先提出建设社会主义市场经济体制的勇气
④参观国际商贸城(2002 年投入使用), 采访商户和外国采购商, 了解改革开放、加入 WTO 给我国带来的巨变
- A. ①③ B. ①④ C. ②③ D. ②④
4. 1949 年, 毛泽东提出“使中国稳步地由农业国转变为工业国, 把中国建设成一个伟大的社会主义国家”; 1979 年, 邓小平指出“我们的概念与西方不同, 我姑且用个新说法, 叫作中国式的四个现代化”; 2022 年, 习近平提出“以中国式现代化全面推进中华民族伟大复兴”。从这一探索历程可见 ()
- ①推进社会主义现代化过程彰显了中国共产党的初心使命
②探索具有普世价值的现代化道路, 是中国共产党的不懈追求
③中国式现代化不是从天而降, 而是有其历史逻辑和实践逻辑
④中国式现代化为世界现代化多元发展贡献了中国智慧和方案
- A. ①② B. ①③ C. ②④ D. ③④
5. 伟大的时代需要伟大的精神, 伟大的精神推动伟大的事业。习近平文化思想把马克思主义基本原理同中国具体实际相结合、同中华优秀传统文化相结合, 在新时代中国特色社会主义文化建设伟大实践中形成并不断丰富发展。由此可见, 习近平文化思想 ()

- ①是根据我国发展所处的新的历史方位提出来的
- ②标志着马克思主义中国化时代化实现了飞跃
- ③持续推进新时代文化建设理论的体系化学理化
- ④是全面实现社会主义现代化国家的重要物质武器

A. ①③ B. ①④ C. ②③ D. ②④

6. 2024年7月,国家统计局发布了2024年1—6月全国规模以上工业企业营业收入与利润总额增速(分经济类型)的数据。依据图表可推测 ()



- ①有些非公有制企业具有较强的市场竞争力
- ②公有制经济企业的利润总额出现明显的下滑
- ③各类所有制经济的市场主体活力竞相迸发
- ④工业企业营业收入与利润总额增速相向而行

A. ①④ B. ②④ C. ②③ D. ①③

7. 2024年6月,财政部、中国人民银行等四部门联合发布通知,明确支持企业实施设备更新行动,银行向企业发放的贷款获得中国人民银行设备更新相关再贷款支持的,中央财政对企业的银行贷款给予贴息。这些举措 ()

- ①有助于加快培育发展新质生产力
- ②降低企业的贷款成本和消除经营风险
- ③促进实体经济发展与增强经济动能
- ④促进全国统一大市场的基础制度建设

A. ①② B. ①③ C. ②④ D. ③④

8. 中国的养老保险制度是一个“三支柱”的体系:第一支柱是基本养老保险,即人们常说的养老金,第二支柱即企业年金和职业年金,第三支柱包括个人储蓄性养老保险和商业养老保险。第三支柱养老保险 ()

- ①可以更多维护好弱势群体利益,从而缩小贫富差距
- ②作为社会保障的核心部分,保障人民基本生活权益
- ③是个人利用金融手段增加养老保障供给的有效形式
- ④是完善发展我国养老事业以及养老产业的内在要求

A. ①② B. ①③ C. ②④ D. ③④

9. [原创]2025年1月7日,西藏日喀则市定日县发生6.8级地震,造成重大人员伤亡。习近平总书记高度重视并作出重要指示,指出要全力开展人员搜救,全力救治受伤人员,最大限度减少人员伤亡。军队各级坚决贯彻习总书记和中央军委命令指示,全力支援地方抢险救灾,全力保障人民群众生命财产安全和社会稳定。由此可见 ()

- ①我国的一切工作都要坚持党的领导
- ②全过程人民民主是最真实的民主
- ③要坚持依法治国,首先要依宪治国
- ④人民军队履行维护国家主权的职能

A. ①② B. ①③ C. ③④ D. ②④

10. 十四届全国人大三次会议上,代表们审议并表决通过了政府工作报告、关于修改《中华人民共和国全国人民代表大会和地方各级人民代表大会代表法》的决定等一系列决议。由此可见 ()

- ①政府是人大的执行机关,对人大负责受其监督,二者相互制衡
- ②政府的行政决策须由全国人大批准,以确保决策符合宪法法律
- ③与时俱进修改完善代表法,更好发挥根本政治制度的优势功效
- ④人大代表是人大的组成人员,会议期间享有审议、表决等权利

A. ①② B. ①③ C. ②④ D. ③④

11. 问题是时代的声音。2024年,国家民族事务委员会以破解深层次问题为关键抓手,加快推进民族领域立法工作;持续深化民族团结进步创建,系统重塑示范测评指标体系;健全表彰制度、大型文化体育活动制度……推动民族工作再上新台阶。这一系列的举措 ()
- A. 构建了平等团结互助和谐的新型民族关系 B. 健全了铸牢中华民族共同体意识的体制机制
C. 坚持了国家统一领导与民族区域自治相结合 D. 奠定了中华民族共同体多元一体的基本格局
12. 现代国家治理是一项越来越追求精细化与准确度的巨量复杂工程。某市通过对每日数以万计的热线数据进行可视化分析,将大量无规律的来电诉求转化为风险热力图、诉求折线图等咨政报告,实现了对夏季洪涝、冬季供暖、大气污染等诉求的科学治理,使城市管理更有智慧、更有效率和更加安全。这一做法 ()
- ①运用数据赋能,提高了政府科学决策能力 ②优化治理流程,提升了城市综合治理水平 ③扩大公众参与,完善了基层民主协商机制 ④强化法律约束,规范了行政执法自由裁量
- A. ①② B. ①④ C. ②③ D. ③④
13. 发源于安徽黄山的新安江,穿山越岭汇入杭州千岛湖。随着“水质不达标,上游补偿下游;水质达标,下游补偿上游”的新安江流域生态补偿机制不断完善,一江清水既能变成碳汇、代码的跳动字符,还能发电、生金、养人。可见 ()
- ①人能够能动地认识世界和改造世界 ②实践活动受到地理环境等客观条件的制约 ③改造自然的实践与改造社会的实践是相互联系的 ④明确改造世界的目标是发挥意识能动性的前提
- A. ①② B. ①③ C. ②④ D. ③④
14. [原创]2023年中国国家创新指数排名世界第10位。在“知识创造”数据方面,中国表现尤为突出,千帆竞渡、百舸争流。只要持续在创新投入上做加法、在耗能上做减法,必会让创新的“种子”更好生根发芽、开花结果。因此,提升国家创新指数,我们要 ()
- ①坚持两点论与重点论统一,既要看“数”更要看“质”
②坚持量变与质变的统一,用持续加减法实现排名的新飞跃
③坚持前进性和曲折性统一,坚定战胜困难勇于胜利的信心
④坚持普遍性与特殊性统一,在普遍性中彰显中国创新成就
- A. ①② B. ①③
C. ②④ D. ③④
15. [原创]漫画《抓小放大》(作者:何青云)讽刺了一种社会现象。这启示我们 ()
- A. 要充分发挥主观能动性
B. 做事情要学会抓主流
C. 要坚持正确的价值判断和价值选择
D. 要抓住机遇实现人生价值



二、选择题Ⅱ(本大题共6小题,每小题3分,共18分。每小题列出的四个备选项中只有一个是符合题目要求的,不选、多选、错选均不得分)

18. [原创]“濠江故事”谱写新篇,“盛世莲花”绽放精彩。回归祖国以来的25年,是澳门历史上发展速度最快、发展质量最高、居民获得感幸福感安全感最强的时期。这得益于 ()
- ①澳门享有固有的高度自治权,能够根据实际应对各种挑战
②落实“爱国者治澳”原则,凝聚各界建设澳门的强大力量
③中央对澳门有全面管治权,为澳门发展提供了巨大的支持
④澳门作为享有相对主权的完整政治实体,能自主发展经济
- A. ①② B. ①④ C. ②③ D. ③④
19. [原创]2024年10月,美国政府发布新规,将禁止对中国半导体、量子技术和人工智能领域的对外投资,并声称相关措施旨在防止美国在华投资可能“威胁美国国家安全”。新规于2025年1月2日生效,由美国财政部新成立的全球交易办公室负责监管。由此可见 ()
- ①当前国际竞争的实质就是以科技实力为基础的综合国力的较量
②美国的做法有利于更好地维护美国相关企业和人民的利益
③推动我国经济高质量发展必须实现关键核心技术自主可控
④美国逆全球化的做法加剧了世界经济发展的不确定性和风险性
- A. ①② B. ②③ C. ③④ D. ①④
20. [原创]小张是拥有超百万粉丝的短视频博主,他创作发布的短视频主要围绕商家要求宣传的商品,每条短视频对外的服务报价均为20000元。小张发现小梁多次未经许可通过消除署名水印的方式,在另一个短视频App非法“搬运”其原创短视频,销售了大量与小张视频中推广的相似商品。可见 ()
- ①若小梁不消除署名水印,是对作品的合理使用 ②小梁的行为侵害了小张享有的信息网络传播权
③小张的著作人身权和著作财产权受到了侵害 ④小张可以要求小梁承担赔偿责任的违约责任
- A. ①② B. ①③ C. ②③ D. ③④
21. [原创]2021年7月1日,徐某与某科技公司签订劳动合同,合同中约定连续旷工超过2天、或在连续12个月内累计旷工3天属于严重违反规章制度,公司可以随时通知解除劳动合同,并不支付经济补偿。此后,徐某曾多次前往外地出差,均按照公司要求填写差旅费报销单,报销费用按流程审批发放。2023年4月25日,徐某出差返回后在上班时间内直接回家,该公司以严重违反规章制度为由解除与徐某的劳动合同。对此,下列说法正确的是 ()
- ①合同中违纪的相关约定加重劳动者义务归于无效
②徐某违反劳动者义务,公司解除合同的行为合法
③合同未明确出差返回须回单位,公司解约行为依据不足
④徐某可直接提起劳动仲裁,提请追索赔偿金终局裁决
- A. ①② B. ①③ C. ②④ D. ③④
22. [原创]茭白是我国一种较常见的水生蔬菜,以丰富的营养价值而被誉为“水中参”,又名茭粳、茭儿菜、茭笋、菰笋等。据此,以下说法正确的是 ()
- ①“水中参”的美誉概括了茭白的本质属性 ②茭白称谓繁多,需下定义来明确其内涵 ③茭白、茭粳、茭笋的外延有所区别 ④茭白与我国水生蔬菜的外延是种属关系
- A. ①② B. ①③ C. ②④ D. ③④
23. [改编]中医认为生姜能“通神明”,即提神醒脑。夏季中暑昏厥不省人事时,用姜汁一杯灌下,能使病人很快醒过来。对一般暑热,表现为头昏、心悸及胸闷恶心的病人,适当吃点生姜汤大有裨益。但夏季天气炎热,人们容易口干、烦渴、咽痛、汗多,生姜性辛温,属热性食物,根据“热者寒之”原则,不宜多吃。由此可见 ()
- ①“热者寒之”佐证了量变定会引起质变 ②食姜要把握好“分寸”,坚持适度原则 ③要运用辩证思维,坚持用矛盾分析法看待食用生姜 ④事物的量是一事物区别于他事物的内在规定性
- A. ①② B. ①④ C. ②③ D. ③④

三、综合题(本大题共5小题,共48分)

24. [原创]习近平总书记指出,抓城市工作要“建立健全党委统一领导、党政齐抓共管的城市工作格局”。在浙江省省委的领导下,“浙里办”一切为了更好地服务群众的核心“算法”,正以数字化“整体政府”的浙江实践,撬动着省域治理现代化的深层变革。“浙里办”推行“领跑者”模式,在全省征集各事项中数据共享最充分、办理流程最便捷、申报材料最简化、表单字段最精简的做法,将其总结推广,以此推动政务服务事项标准化、结构化、数字化。不管哪个政府部门,都代表政府;“浙里办”“算法”的最深层逻辑——政务服务好不好,最终由人民群众说了算。

结合材料,运用《政治与法治》的相关知识,分析浙江进行数字化“整体政府”实践的原因。(9分)

25. [原创]为了进一步强化对各地区、各部门加快融入和主动服务全国统一大市场建设的正向引导和负面约束,2025年1月7日,国家发展改革委同有关部门研究制定了《全国统一大市场建设指引(试行)》(以下简称:《指引》)。具体来看,《指引》从要求做的、禁止做的、鼓励做的三个维度提出具体举措:“要求做的”属于“规定动作”,是对各地融入全国统一大市场建设的共同要求。要求各地区、各部门要严格落实“全国一张清单”管理模式,地方依法设定市场准入管理措施。“禁止做的”属于“底线红线”,如果触碰就要承担相应责任。《指引》明确了妨碍经营主体依法平等准入和退出、影响公平公正招标投标和政府采购等方面的禁止性规定。“鼓励做的”属于“自选动作”,引导有条件的地区先行先试。各地资源禀赋不同,在统一大市场建设中不可能做到齐步走,基础条件好、市场化程度高的区域可以先行一步。

结合材料,运用《经济与社会》《哲学与文化》的相关知识,回答下列问题:

(1)从实践与认识关系的角度,说明我国研究制定《指引》的意义。(3分)

(2)运用《经济与社会》《哲学与文化》的相关知识,分析从“要求做的、禁止做的、鼓励做的”三个维度提出具体举措建设全国统一大市场的合理性。(9分)

26. [改编]刘某(女)与李某均年逾九旬,再婚结为夫妻,婚前各有一女、一子,婚后未生育子女,居住在李某婚前购买的房子里。刘某与李某婚后感情一直良好,却因分配双方共同居住的房屋拆迁获得的货币补偿款878140元产生矛盾,分别跟随各自子女生活。2020年10月,刘某向人民法院起诉离婚未获支持,后李某将房屋拆迁补偿款全部提取。刘某向人民法院起诉,以双方分居为由,请求依法平均分割房屋拆迁补偿款及其他夫妻共同财产。

(1)从法律保护下的婚姻角度,分析刘某向人民法院起诉离婚未获支持是否违背婚姻自由原则并说明理由。(4分)

(2)如果你是法官,是否支持刘某的诉讼请求?并说明理由。(5分)

27. 独角兽是神话传说中一种象征吉祥的虚构生物,形如白马,额前有角。在经济领域,将成立时间不超过10年、估值超10亿美元的具有强大潜力的创业型公司称为独角兽。在《2024全球独角兽榜》中,中国字节跳动公司以价值1.56万亿元位列排行榜第一。据此,某同学作出以下推理:独角兽是一种象征吉祥的虚构生物,字节跳动公司是独角兽,所以,字节跳动公司是一种象征吉祥的虚构生物。

(1)请从逻辑思维的基本要求的角度,指出该推理的逻辑错误,并作出简要分析。(4分)

(2)以“独角兽企业是具有强大潜力的创业型公司”为前提,构建两个不同类型的演绎推理。(要求:推理结构正确,标明相应的推理类型)(2分)

28. [原创]在世界经济复苏乏力、地缘冲突频发、单边主义和保护主义日益抬头的当下,国际合作组织扮演着至关重要的角色。

近日,美国总统特朗普在白宫签署一项行政令,宣布美国退出世界卫生组织及将再次退出第21届联合国气候变化大会通过的《巴黎协定》。近年来,美国将国际规则视为儿戏,把国际组织当作“合则用、不合则弃”的工具,反复“退群”“返群”,不负责任的态度和行为使其遭到国际社会广泛质疑。联合国发言人办公室发表声明表示,世卫组织的工作至关重要,值得所有成员国支持。《巴黎协定》为各国应对气候变化提供了“有意义且灵活的行动框架”,集体努力已初见成效,但仍需“一起走得更远、更快”。

中国自加入世卫组织和《巴黎协定》以来,一如既往支持世卫组织履行职责,深化国际公共卫生合作,加强全球卫生治理,推动构建人类卫生健康共同体。面对气候变化,秉持人类命运共同体理念,积极应对气候变化挑战,共同推进全球绿色低碳转型的进程。

有人说:“美国全面退出国际组织是‘王者表现’,中国将在国际组织中发挥主导作用。”

结合材料,运用《当代国际政治与经济》的相关知识,针对“美国全面退出国际组织是‘王者表现’,中国将在国际组织中发挥主导作用”的观点,写一篇小短文加以评述。【要求:①知识和素材运用恰当;论证路径清晰。(9分)②观点明确;逻辑严密;条理清晰;表达流畅;300字左右。(3分)】

浙江省新高考选考信息优化卷(三)

政治

姓名: _____ 准考证号: _____

本试题卷共 6 页, 满分 100 分, 考试时间 90 分钟。

考生注意:

1. 答题前, 请务必将自己的姓名、准考证号用黑色字迹的签字笔或钢笔分别填写在试题卷和答题纸规定的位置上。
2. 答题时, 请按照答题纸上“注意事项”的要求, 在答题纸相应的位置上规范作答, 在本试题卷上的作答一律无效。
3. 非选择题的答案必须使用黑色字迹的签字笔或钢笔写在答题纸上相应区域内, 作图时可先使用 2B 铅笔, 确定后必须使用黑色字迹的签字笔或钢笔描黑, 答案写在本试题卷上无效。

一、选择题 I (本大题共 17 小题, 每小题 2 分, 共 34 分。每小题列出的四个备选项中只有一个是符合题目要求的, 不选、多选、错选均不得分)

1. 《共产党宣言》中写道:“资产阶级不仅铸造了置自身于死地的武器; 它还产生了将要运用这种武器的人——现代的工人, 即无产者……”对此理解正确的是 ()
 - ①资产阶级锻造出的生产关系严重地束缚了社会的发展
 - ②资产阶级的灭亡和无产阶级的胜利是同样不可避免的
 - ③工人阶级开始作为独立的政治力量登上了历史的舞台
 - ④资本主义生产方式的内在矛盾决定着资本主义的命运
 A. ①② B. ③④ C. ①③ D. ②④
2. 某同学参观博物馆时, 看到一份珍藏版报纸, 上面刊有“农民踊跃报名加入农业生产合作社”“上海信大祥绸布商店挂上了公私合营的招牌”“第一届全国人民代表大会第一次会议通过的《中华人民共和国宪法》”的内容。据此可知, 当时中国 ()
 - ①正在进行社会主义革命
 - ②建立起比较完整的工业体系
 - ③为社会主义事业的发展指明了方向
 - ④明确了建立社会主义社会的根本任务
 A. ①② B. ①④ C. ②③ D. ③④
3. 某班同学参加校团委举行的“探寻浙江创造的中国第一”微视频比赛, 搜集了以下素材作为微视频的内容:

项目	浙江创造的诸多第一
镜头 1	1991 年, 中国第一个集体小厂兼并全民大厂——杭州娃哈哈营养食品厂兼并了杭州罐头食品厂
镜头 2	1997 年, 浙江成为全国第一个消灭贫困县的省份
镜头 3	2014 年, 中国县级市首发的第一趟中欧班列开往西班牙
镜头 4	2021 年, 全国首个共同富裕示范区正式落地浙江

对于该视频, 下列适合的标题和观点有 ()

- ①改革开放没有完成时 我国的改革开放不断向纵深推进
 - ②重要法宝, 关键一招 改革开放是我国取得一切成绩和进步的根本原因
 - ③回看走过的路, 远眺前行的路 改革开放为非公有制经济发展创造了条件
 - ④道路决定命运 只有中国特色社会主义才能发展中国
- A. ①② B. ①④ C. ②③ D. ③④
4. 2021—2025 年, 一段刻骨铭心的历程。向外看, 世界进入动荡变革期, 逆全球化思潮暗流涌动; 向内看, 稳经济、促发展, 战疫情、斗洪峰……风险挑战面前, 一次次化危为机、浴火重生, 定格下亿万人民风雨无阻向前进的勇毅身影。由此可见 ()

- ①以人民为中心彰显了中国之治的治理优势和制度优势
- ②全面深化改革是我们应对各种风险和挑战的关键一招
- ③集中力量办大事是中国特色社会主义制度的最大优势
- ④发扬斗争精神增强斗争本领不断夺取伟大斗争新胜利

A. ①③ B. ①④ C. ②③ D. ②④

5. 二〇二五年习近平主席的新年贺词回顾了一年来党带领人民经历风雨洗礼取得的扎实成就,满怀信心展望了新的奋斗征程,激发中华儿女前行的动力,点燃亿万人民奋斗的激情。二〇二五年新年贺词 ()
- A. 彰显了中国共产党与人民休戚与共的纯洁性本色
- B. 体现了中国共产党夺取新胜利的高度自觉和高度自信
- C. 意味着中华民族迎来了实现伟大复兴的历史契机
- D. 说明各级党组织在引领中国进步中发挥战斗堡垒作用
6. 2024年,我国98%的央企和地方国企建立了经理层成员任期制和契约化管理制度,提高与业绩挂钩的浮动工资比例,同时央企管理人员末等调整和不胜任退出比例超过6%。上述举措能够 ()
- ①优化国企股份结构,提高国有资本效率 ②发挥市场机制作用,增强国有企业活力 ③完善国企管理机制,助推国企提升效益 ④提高国企市场地位,促进国企做优做强
- A. ①② B. ①④ C. ②③ D. ③④
7. 百度曾率先推出国内首款AI中文模型并大获成功。随着阿里和腾讯的入局,百度的先发优势逐渐丢失,为挽回颓势,满足市场对新技术的需求,百度大幅加码云计算方面的投资。由此可见,在市场经济中 ()
- ①产业链构建关系到企业竞争成败 ②先发优势有时并不重要 ③市场能自发调节资源配置 ④良性竞争能推动科技进步
- A. ①② B. ①④ C. ②③ D. ③④
8. 下表是2022—2024年我国社会消费品零售总额及其增长速度:

年份	2022年	2023年	2024年
总额/亿元	436 449	467 098	483 345
比上年增长/%	-0.4	7.0	3.5

【注】2024年全年限额以上单位商品零售额中,其中体育、娱乐用品类增长11.1%,家用电器和音像器材类增长12.3%,通讯器材类增长9.9%。

出现上述现象的原因可能有 ()

- ①宏观政策发力,畅通国内大循环
- ②通过供给侧结构性改革来创造有效需求
- ③消费的增速加快,潜力充分释放
- ④以旧换新政策提升了人民群众生活品质

A. ①② B. ①③ C. ②④ D. ③④

9. 衢江区委深化“循迹溯源学思想促践行”,衢江区中青年干部培训班学员学习贯彻习近平新时代中国特色社会主义思想,前往希望新村、马蹊村等循迹溯源,开展理想信念和党性教育,组织干部实地感悟思想伟力。这一活动有利于 ()

- ①凝心铸魂,为推进中国式现代化提供制度保障
- ②坚定信念,夯实全党团结统一奋斗的思想基础
- ③以思想建设为统领,全面提升干部的思想境界
- ④强化理论武装,永葆中国共产党人的政治本色

A. ①③ B. ②④ C. ①④ D. ②③

10. 党委工作推进到哪里政协履职就到哪里。湖南省政协认真贯彻省委决策部署,围绕营商环境优化开展协商监督,积极排忧解难,助推各项惠企政策落实落地。由此可见 ()

- ①党与政协在监督与被监督的关系中推动政策落实
- ②发挥专门协商机构作用推动营商环境向好向优
- ③聚焦发展需要把协商民主贯穿民主监督全过程
- ④民主党派以多种形式充分表达集思广益的调研成果

A. ①③ B. ①④ C. ②③ D. ②④

11. 国务院公布《网络数据安全条例》(以下简称:《条例》),自 2025 年 1 月 1 日起施行。《条例》旨在规范网络数据处理活动,保障网络数据安全,促进网络数据依法合理有效利用,保护个人、组织的合法权益,维护国家安全和公共利益。该条例的施行 ()
- ①完善了我国数据安全法律规范体系 ②旨在为网络数据安全提供可靠执法依据 ③是贯彻落实总体国家安全观的重要举措 ④科学地运用部门规章引导新兴领域发展
- A. ①③ B. ①④ C. ②③ D. ②④
12. 以“一台电脑、一名指导法官、一名协助员”为基本配置的“融诉驿站”创新平台,正悄然改变着苏州基层矛盾纠纷化解生态。通过在线调解、云司法确认和诉讼服务“全域通办”等方式,苏州法院把非诉讼纠纷解决机制挺在前面,从源头上减少诉讼增量。这一工作模式 ()
- A. 提供法律援助,健全社会矛盾纠纷预防化解机制
B. 创新司法机制,下沉司法资源纾解群众争议难题
C. 坚持公正司法,前置化解纠纷保障人民合法权益
D. 数字赋能治理,提高基层组织为人民服务的能力
13. “世界赠予我虫鸣,也赠予我雷霆;赠我一场病,又慢慢痊愈摇风铃;赠我一场空,渐渐填满真感情……”歌曲《世界赠予我的》通过记录生活中微小而动人的瞬间,将生命和岁月的馈赠娓娓道来,真诚美好、抚慰人心。这再次佐证了 ()
- ①人们对生活的感悟受主客观因素影响 ②实践是检验认识真理性的唯一标准 ③任何事物都包含对立统一的两个方面 ④先进的社会意识能推动社会发展
- A. ①② B. ①③ C. ②④ D. ③④
14. 2025 年浙江全面启动“宋韵文化基因解码 2.0 工程”,文旅、文物、教育等多部门联动,整合数字化技术、历史遗存保护等要素,形成“政策—技术—载体”协同机制,使这一文化标识的辨识度显著提升。这启示我们 ()
- ①根据固有联系,用综合的思维方法统筹规划工程
②立足关键部分,实现整体功能大于部分功能之和
③坚持系统观念,着眼于实现各要素功能的最大化
④把握多样联系,善于分析事物存在和发展的条件
- A. ①② B. ②③ C. ①④ D. ③④
15. 右面漫画《应用数学》(作者:于海林)讽刺了一种社会现象,启示我们要 ()
- ①充分发挥主观能动性
②从客观存在的事物出发
③坚持群众观点和群众路线
④做到具体问题具体分析
- A. ①③ B. ①④
C. ②③ D. ②④
- 业绩总结 群众批评 个人利益 事故责任
16. 2025 蛇年央视春晚节目《笔走龙蛇》通过最新的云上 AI 技术,将节目多视角呈现,首次实现演播厅天空环绕视角,AI 书法家行云流水,让观众沉浸式感受到书法文化的磅礴魅力。该节目的成功得益于 ()
- ①通过批判继承,强化了中华优秀传统文化的表达 ②运用科技手段,丰富了中国书法文化形式与内涵
③创新表现形式,为观众献上了一场文化视听盛宴 ④适应当代文化,推广了中华民族最基本文化基因
- A. ①② B. ①③ C. ②④ D. ③④
17. 电影《哪吒之魔童闹海》在保留传统哪吒故事内核的基础上,通过颠覆性叙事和现代价值观重塑角色形象,借助数字技术打造出东方美学意境,为观众带来别样的文化盛宴。这表明 ()
- ①中华文化涵养着中华民族共同的价值观 ②文化创新应坚持以我为主,为我所用 ③人民是文化成果的最终享有者和受益者 ④坚定文化自信能够推动文化产业发展
- A. ①② B. ①④ C. ②③ D. ③④

二、选择题Ⅱ(本大题共6小题,每小题3分,共18分。每小题列出的四个备选项中只有一个是符合题目要求的,不选、多选、错选均不得分)

18. 据报道,澳大利亚工党预计将获得超过80个澳大利亚联邦议会众议院席位,超过一半席位获得组建多数党政府资格。工党在此次竞选过程中宣布一系列民生福利政策,这些重点政策得到了多数选民认同。由此可以推出 ()
- ①国家主权由联邦政府和地方政府分层行使 ②工党由选民选举产生,对选民负责 ③政党竞选在一定程度上会考虑选民的利益 ④工党组建的政府总揽国家行政权力
- A. ①② B. ①④ C. ②③ D. ③④
19. 在2025年4月召开的联合国人权理事会第五十八届会议上,中国代表积极阐释中国特色人权理念主张,全面宣介中国人权发展成就,明确表态将以更加积极有为的姿态参与国际人权合作,为完善全球人权治理贡献中国方案,与各方共同开创全球人权事业美好的未来。由此可见 ()
- ①中国坚持以互利合作实现共同繁荣 ②中国坚持以多边主义实现共同安全 ③联合国在保障全球安全的国际合作中发挥着不可替代的作用 ④联合国通过主持重大国际会议协调国际社会的人权治理工作
- A. ①② B. ①④ C. ②③ D. ③④
20. 甲向丁出租了一套两居室的房屋,双方签订了房屋租赁合同。根据合同约定,丁每半年向甲支付租金,租期两年,并约定争议解决方式为仲裁。一年后,甲多次催告丁缴纳租金,丁却迟迟不支付,双方产生争议。下列说法正确的是 ()
- ①丁违反合同约定,甲有请求丁返还出租房屋的权利 ②丁不履行合同义务,甲可以请求丁承担消除影响的责任 ③依据商事仲裁原则,甲可以通过诉讼方式请求法院确认其物权 ④催告超出合理期限后仍不支付租金,丁应对合同的解除承担全部责任
- A. ①③ B. ①④ C. ②③ D. ②④
21. 2023年4月,董某将自己的货车出售给某汽车服务公司并完成交付,但车子仍登记在董某名下。6月,王某向该公司购得此车,付清车款后立即开走。后董某反悔,通过定位找到货车,偷偷开走。王某索要无果后,将董某诉至人民法院。在这一诉讼案中 ()
- ①王某依法取得货车所有权 ②汽车服务公司应赔偿王某损失 ③董某有权委托诉讼代理人 ④民事法律关系的客体是行为
- A. ①③ B. ①④ C. ②③ D. ②④
22. 在学习了一些逻辑规则后,某学习小组整理了以下内容,其中正确的是 ()
- ①“中国位于亚洲”,这里的“中国”与“亚洲”两个概念是种属关系 ②黎明借张华10元钱,从关系的性质来判断,二者的关系是非对称关系 ③“一切知识都来源于实践”,通过“换位”可以得到“有些来源于实践的是知识” ④“所有M是P,所有S不是M”,所以“所有S不是P”,该三段论推理结构正确
- A. ①② B. ①④ C. ②③ D. ③④
23. “岱宗夫如何?齐鲁青未了。造化钟神秀,阴阳割昏晓。荡胸生曾云,决眦入归鸟。会当凌绝顶,一览众山小。”这首《望岳》不仅展现了泰山的壮丽景色,更体现了诗人对人生理想的追求与抱负。诗歌中蕴含的思维方法有 ()
- ①从泰山精神到个人理想,恰当运用了归纳推理的思维方法 ②从当下观感到未来憧憬,运用了超前思维中想象的方法 ③从直观感受到精神体悟,体现了思维抽象到思维具体的升华 ④从多角度描写到精神提炼,运用了分析与综合的思维方法
- A. ①③ B. ①④ C. ②③ D. ②④

三、综合题(本大题共5小题,共48分)

24. 2025年5月20日,《民营经济促进法》施行。这是我国第一部专门关于民营经济发展的基础性法律。

【思想引领】

党的十八大以来,党中央对民营经济的定位不断深化。制定出台《民营经济促进法》,将重大方针政策和重要举措上升为法律规范。法律内容与宪法关于社会主义基本经济制度的规定贯通起来,有助于促进民营经济持续、健康、高质量发展。

【凝聚共识】

在起草阶段,司法部、国家发展改革委通过多种方式听取有关方面意见,成立立法专班,专门听取民营企业代表的意见,多次组织专家论证,上门听取人大代表、政协委员以及民营企业代表的意见。两次向社会公布草案,公开征求意见。

【重在实施】

要加强对法律的宣传和普及,通过多种形式引导舆论关注民营经济发展。各级政府机关在执法过程中要严格依法办事,明确责任分工。司法机关坚持公平正义,加强对民营企业合法权益的司法保护。

结合材料,运用《政治与法治》的相关知识,说明《民营经济促进法》的制定和实施对推进全面依法治国的积极作用。(9分)

25. 为更好保障国家粮食安全,中共中央、国务院印发《逐步把永久基本农田建成高标准农田实施方案》,提出以“一平两通三提升”(即田块平整,通水通路,提升地力、产量和效益)为基本标准,合理确定不同区域、不同类型高标准农田建设标准和投入标准;统筹开展田、土、水、路、林、电、技、管综合治理,将建设重点放在田内,着力提高农田保水保土保肥能力、抵御旱涝灾害能力、机械化耕作便捷水平,力争到2035年将具备条件的永久基本农田全部建成高标准农田。

(1)结合材料,说明该实施方案是如何坚持“用对立统一观点看问题”的。(6分)

(2)有人建议,建立农田物联网监测系统,实时监控土壤墒情、作物长势、气象灾害等数据,为农业生产提供智能化服务。请分别运用《经济与社会》《哲学与文化》的相关知识分析其建议的合理性。(6分)

26. 王某山和常某系夫妻,未生育子女。2020年冬天,常某在小区内不慎踩上冰面滑倒,造成伤残。经调查,该事故系小区物业公司保洁人员拧拖把甩出水,形成积水结冰所致。半年后,王某山患重病,由于常某行动不便,于是委托其弟王某泉长期照料王某山的日常生活。2024年王某山病逝,临终前,由其口述,邻居魏某记录,形成遗嘱,内容为:“去世后家中存款全部由王某泉安排处理”,并由王某山、王某泉、魏某在结尾处签字、注明日期。就遗产处理问题常某与王某泉产生纠纷,遂向法院起诉,要求王某泉将遗嘱中所述的存款由自己保管。

结合材料,运用《法律与生活》的相关知识,回答下列问题:

(1)针对常某所受损害,你认为小区物业公司是否应当承担全部责任?请说明理由。(5分)

(2)如果你是本案法官,如何就遗产纠纷作出公正的判决?请说明理由。(4分)

27. 在竞争激烈的春节档期中,《哪吒2》以高口碑迅速破圈。《哪吒2》最成功之处,在于对人物形象的颠覆性塑造。传统神话里仙正妖邪,可电影中以无量仙翁为代表的仙族为达目的不择手段,尽显贪婪自私。面对传统观念“天命不可违”,哪吒喊出“我命由我不由天”,敖丙也抗争命运,他们否定“命运天定”,突破传统命运观,鼓励观众掌握自己的命运。同时电影中多条情节线索和角色的经历都指向“反抗不公、推翻旧规则”这一核心主题。哪吒对强权的反抗、龙族对仙界压迫的不满、申公豹对命运不公的抗争等,都围绕着这一主题展开,使电影的主题表达更加集中和深刻。

从《西游记之大圣归来》,再到《哪吒》电影系列,这些电影将中国传统文化元素巧妙地融合到剧情画面和角色之中,彰显出中华文化的独特魅力,受到了市场的热捧。据此有网友认为:包含中华优秀传统文化元素的动画电影能获得市场的认可。

结合材料,运用《逻辑与思维》的相关知识,回答下列问题:

(1)指出该影片破圈成功所采用的一种创新思维方式。并说明该方法是如何在该影片中运用的。(3分)

(2)指出该网友得出结论的具体推理类型及其逻辑错误。(3分)

28. 材料一 美国所谓“对等关税”在经济上“向各国宣战”,严重扰乱国际经贸秩序。近日,美国以“拒绝配合调查”为由,再次对东南亚国家加征高额的惩罚性关税。

材料二 美国的“对等关税”政策,正在、也必将走进死胡同。美国所谓“对等关税”政策的回旋镖效应已经显现。据预测,美国2025年约200万人失业,大量农民破产,美民众成为真正“买单人”。

材料三 中国始终站在历史正确的一边。在万隆会议70周年之际,中国倡导全球南方国家相互支持,努力构建一个更加公正的国际秩序,提高发展中国家的代表性与发言权。同时,中国表示将与世界共享发展机遇,也将继续坚定不移地捍卫国际公平正义,让发展成果更多更公平惠及各国人民。

结合材料,运用《当代国际政治与经济》的相关知识,请你以中方某报社特约评论员的身份,自拟题目,撰写一篇主题明确、观点鲜明的评论员文章。(要求:①知识和材料运用恰当。②观点明确;条理清晰;逻辑严密;表达流畅;300字左右)(12分)

浙江省新高考选考信息优化卷(四)

政治

姓名: _____ 准考证号: _____

本试题卷共 6 页, 满分 100 分, 考试时间 90 分钟。

考生注意:

1. 答题前, 请务必将自己的姓名、准考证号用黑色字迹的签字笔或钢笔分别填写在试题卷和答题纸规定的位置上。
2. 答题时, 请按照答题纸上“注意事项”的要求, 在答题纸相应的位置上规范作答, 在本试题卷上的作答一律无效。
3. 非选择题的答案必须使用黑色字迹的签字笔或钢笔写在答题纸上相应区域内, 作图时可先使用 2B 铅笔, 确定后必须使用黑色字迹的签字笔或钢笔描黑, 答案写在本试题卷上无效。

一、选择题 I (本大题共 17 小题, 每小题 2 分, 共 34 分。每小题列出的四个备选项中只有一个是符合题目要求的, 不选、多选、错选均不得分)

1. 《共产党宣言》指出:“代替那存在着阶级和阶级对立的资产阶级旧社会的, 将是这样一个联合体, 在那里, 每个人的自由发展是一切人的自由发展的条件。”与上述论断的主旨相符的是 ()
A. 共产主义社会通过消除旧式分工实现个人与社会的统一
B. 论证了资本主义必然灭亡和社会主义必然胜利的必然性
C. 资本主义社会的基本矛盾是其一切矛盾和冲突的总根源
D. 无产阶级专政是“每个人的自由发展”的唯一实现路径
2. “长夜难明赤县天, 百年魔怪舞翩跹, 人民五亿不团圆。一唱雄鸡天下白, 万方乐奏有于阗, 诗人兴会更无前。”毛泽东的这首《浣溪沙·和柳亚子先生》反映了时代的历史巨变。“一唱雄鸡天下白”歌颂的历史事件 ()
A. 开启了人类社会历史发展的新纪元
B. 从根本上改变了中国社会的发展方向
C. 实现了最为广泛而深刻的社会变革
D. 实现了党和国家工作中心的战略转移
3. 从党的十一届三中全会到党的十八届三中全会, 再到党的二十届三中全会, 中国始终坚持改革不停顿、开放不止步, 在推进中国式现代化历史进程中树立起一座又一座丰碑, 使改革开放成为当代中国最显著的特征、最壮丽的气象。这表明 ()
①中国坚持改革开放基本国策不动摇 ②改革开放是党的全部理论和实践的主题 ③推进中国式现代化离不开改革开放 ④党坚定不移高举改革开放伟大旗帜
A. ①② B. ②③ C. ①④ D. ③④
4. 2025 年 1 月 15 日, 纪念遵义会议 90 周年大会在贵州遵义举行。大会强调, 新征程上传承弘扬遵义会议精神, 要“始终坚持独立自主走自己的路, 坚定以中国式现代化全面推进强国建设、民族复兴伟业的信心决心”。新时代传承弘扬遵义会议精神有利于 ()
①牢记初心使命, 以伟大社会革命引领伟大自我革命
②汲取精神之钙, 汇聚起实现中国梦的强大精神力量
③坚定理想信念, 为中国式现代化提供丰厚精神滋养
④坚持正确路线, 为中华民族伟大复兴提供行动指南
A. ①③ B. ①④ C. ②③ D. ②④
5. 中国在积贫积弱、内忧外患时期尝试过各种主义和思潮, 但资本主义道路没有走通。中国共产党领导中国人民用几十年时间走完了发达国家几百年走过的工业化历程, 从“落后于时代”到“赶上时代”, 再到“引领时代”, 中国式现代化道路越走越宽广, 创造了举世瞩目的发展奇迹。中国式现代化的成功实践表明 ()
①西方现代化道路并非人类通向现代化的唯一道路
②中国式现代化是实现中华民族伟大复兴的“方法论”

③创造人类文明新形态是中国式现代化的本质要求

④中国式现代化在否定西方现代化中开辟了新路径

A. ①③

B. ①④

C. ②③

D. ②④

6. 国家发展改革委、财政部发布《关于 2025 年加力扩围实施大规模设备更新和消费品以旧换新政策的通知》指出:对符合有关条件经营主体设备更新相关的银行贷款本金,在中央财政贴息 1.5 个百分点基础上,国家发展改革委安排超长期特别国债资金进行额外贴息。该举措体现了政府 ()

A. 通过货币政策助力制造业竞争力提升

B. 运用经济手段降低经营主体的融资成本

C. 实施产业政策实现经济社会发展总体目标

D. 发挥市场作用实现资源的优化配置

7. 今年以来,商务部与各方一道统筹促消费与惠民生,加力扩围实施消费品以旧换新取得阶段性成效,超过 1.2 亿人次享受到真金白银补贴优惠,带动销售额超过 7 200 亿元,这将进一步推动汽车换“能”、家电换“智”,家庭厨卫“焕新”。上述举措 ()

①有利于增加居民的收入

②有利于促进国内国际双循环

③旨在更好释放内需潜力

④能够推动相关产业转型升级

A. ①②

B. ①④

C. ②③

D. ③④

8. 下表为 2024 年政府工作报告中全国一般公共预算支出情况及安排(部分)。据此可以推断政府 ()

项目	2024 年支出安排/亿元	2023 年支出情况/亿元	同比增长/%
教育支出	42 906	41 242	4.03
社会保障和就业支出	41 384	39 883	3.76
城乡社区支出	21 388	20 530	4.18
科学技术支出	11 541	10 832	6.63

【注】2023 年向革命老区、少数民族地区、边疆地区安排资金 1 770 亿元,2024 年支出安排同比增长 8%。

①加大财政转移支付的力度

②优化财政支出结构,在发展中保障和改善民生

③健全多层次社会保障体系

④国民收入初次分配既重提高效率又重促进公平

A. ①②

B. ③④

C. ①③

D. ②④

9. 浙江省委以人为本,统筹做好“强城”“兴村”“融合”三篇文章,把建强发展轴作为促进“融合”的关键抓手,推动产业、人口、服务、基础设施等在轴上有机融合、全面融合、深度融合,提升人民生活水平。这表明浙江省委 ()

①完善了组织建设,走在时代前列

②坚持了科学执政,把握发展规律

③充分发挥了人民群众的首创精神

④践行了实事求是的基本领导方法

A. ①②

B. ①③

C. ②④

D. ③④

10. 十四届全国人大三次会议于 2025 年 3 月 5 日上午开幕。国务院总理作政府工作报告,国家发展改革委、财政部受国务院委托向大会书面提交计划报告和预算报告。社会的主要关切在上述三个报告中都有具体的回应,这三个报告经大会通过后将向社会公布,媒体和公众都能很方便地了解相关内容。这表明 ()

①全国人大通过行使审议权决定国家的重大方针政策

②全国人大在我国国家机关组织体系中居于最高地位

③人民所有的意志可以通过法定程序上升为国家意志

④人民代表大会制度有保障人民当家作主的显著优势

A. ①③

B. ①④

C. ②③

D. ②④

11. 为认真贯彻金华市委“树八婺新风、建善治金华”基层治理工作要求,武义县深入实施“以‘后陈式先锋善治’推进基层治理”专项行动,激发群众参与基层治理的积极性和主动性,进一步构建党建引领基层治理新格局。该项行动 ()

①把党的领导优势更好转化为基层治理效能

②推动民主管理,消除不同群体的利益冲突

③聚集基层群众力量激发基层社会治理活力

④创新发展了多元共治的基层群众自治制度

A. ①③

B. ①④

C. ②③

D. ②④

12. 近年来“小过重罚”“同案不同罚”等“过罚失当”问题屡屡成为关注焦点。对行政执法来说,罚款本身不是执法的目的,通过严格执法有效遏制违法、激励守法,引导企业和群众依法规范经营、自觉守法才是重点。这警示政府应 ()

- ①普遍信仰法治,发自内心地认可和接受法律 ②探索柔性执法方式,更好保护人民群众合法权益
③加强行政检察监督,依法纠正“小过重罚”问题 ④严格执法时应正确行使自由裁量权,确保过罚相当
A. ①③ B. ①④ C. ②③ D. ②④

13. 漫画《肯做好事,还要会做好事》(作者:郑辛遥)给我们的哲学启示是 ()

- ①全面把握客观实际,是肯做好事达到积极效果的前提
②方法论比世界观更重要,“会做”比“肯做”更不容易
③辩证否定的实质是扬弃,“会做”是对“肯做”的否定
④正确发挥能动性,才能实现由“肯做”到“会做”的转变

- A. ①③ B. ①④
C. ②③ D. ②④



14. 数字经济是以新一代信息技术为依托,在农业经济、工业经济之后的一种新经济形态。数字经济时代有三个最核心的要素:数据(生产要素)、算力(计算效率)、算法(资源配置)。因此,在算力革命的基础上,必然会产生一种全新的社会关系和生产关系,推动人类社会的进步。这说明 ()

- A. 算力革命是未来推动社会历史发展的决定力量
B. 算法和算力的矛盾运动,推动数字经济的发展
C. 数据理论的创新对社会发展起积极的推动作用
D. 算法是数字经济时代生产方式中最活跃的因素

15. 在古代,盐为“国之大宝”,“民生所系,不可或缺……利入国库,富国之基也”。随着采盐技术的进步,今天的盐还是生活必需品,“然昔日之重,今已大减”。人们对盐的认识的变化主要说明 ()

- ①真理是主观与客观具体的历史的统一 ②生产力的变化迟早引起生产关系变化 ③价值判断与价值选择具有社会历史性 ④社会意识与社会存在的发展不完全同步

- A. ①② B. ①③ C. ②④ D. ③④

16. 随着数字技术的蓬勃发展,《哪吒之魔童闹海》《流浪地球》《长安三万里》等一大批具有较强穿透力和影响力的文艺作品不断涌现,大量融合中国传统和现代元素的作品相继走出国门,不断提升中华文化影响力。这表明 ()

- ①文化因交流而多彩,文化因交融而丰富 ②我国文化事业、产业熔铸古今汇通中外 ③优秀作品将中国故事与世界眼光相融通 ④数字技术赋能对外文化贸易高质量发展

- A. ①② B. ①④ C. ②③ D. ③④

17. 电影思政进校园就是充分挖掘电影中的思政元素和育人价值,将优秀电影引入、融入思政课。绍兴文理学院的电影思政微课《绍兴三杰》,讲述了秋瑾、鲁迅、周恩来三位绍兴杰出人物的事迹。这一创作模式将微电影融入思政课,让历史鲜活,增加了思政课的感染力和吸引力。这启示我们 ()

- A. 要实现对传统文化的创造性转化和创新性发展
B. 用电影资源变革教育模式,赋予思政课新内涵
C. 在文化创新中坚定文化自信,更好发挥其育人功能
D. 实现不同文化融合,彰显中华文化的包容性

二、选择题 II (本大题共 6 小题,每小题 3 分,共 18 分。每小题列出的四个备选项中只有一个是符合题目要求的,不选、多选、错选均不得分)

18. 2025 年 4 月,国际商事争端预防与解决组织全球总部新址在北京正式启用。该组织由中国贸促会、中国国际商会牵头设立,旨在帮助跨国公司妥善解决贸易分歧,为全球工商界的争端预防和解决提供公共法律服务。由此可见 ()

- ①国际组织具有目的性和组织性特征 ②中国为完善全球治理展现大国担当 ③中国为优化国际营商环境贡献力量 ④国际组织具有调停贸易纠纷的职能

- A. ①③ B. ①④ C. ②③ D. ②④

19. 中国对拉美地区的投资不断多元化,已经从能源、矿产和基础设施,拓展到清洁能源、绿色产业、高端制造、数字经济等领域。中企一系列的投资项目显著提高了拉美国家的交通物流效率和产业竞争力,为地区国家经济转型和可持续发展提供坚实支撑。由此可见 ()
- ①中国在发挥比较优势的同时贡献全球发展 ②跨国公司在对外投资中实现了跨国行业垄断 ③中国的发展为世界各国提供了更广阔的市场 ④中国深度加入国际分工体系,与他国共享机遇
- A. ①② B. ①④ C. ②③ D. ③④
20. 郭某从事高新技术研究工作,2021年与何某结婚。2022年,郭某以个人名义向银行申请贷款,购买了房屋A与何某共同居住。2023年,郭某与S公司签订专利许可协议并收取费用。何某和郭某一直全力照顾何某外祖母的生活。2024年,何某外祖母订立遗嘱,明确其名下的房屋B归何某所有,其他财产归何某行动不便的母亲。下列判断正确的是 ()
- ①虽然房屋A由郭某个人贷款,但房贷仍可成为郭某夫妻共同债务
②郭某的专利虽被S公司付费使用,但只要保密得当就可一直受法律保护
③郭某可通过成年意定监护制度保护何某外祖母合法权益
④当遗嘱发生效力时,何某将以遗嘱继承方式取得房屋B的所有权
- A. ①③ B. ①④ C. ②③ D. ②④
21. 员工周某以腰痛、只能卧床不能上班为由,长期“泡病假”。但病假期间,却经常参加演唱会、婚宴等,因而被公司辞退,于是周某向劳动争议仲裁委员会提出书面仲裁。下列说法正确的是 ()
- ①周某严重违反公司的规章制度,公司辞退周某符合法律规定
②劳动者要遵守劳动纪律和职业道德,遵循诚信、敬业原则
③若用人单位对仲裁结果不服,不可以在适当期限内提起诉讼
④用人单位与劳动者一旦建立劳动关系,就不能解除劳动合同
- A. ①② B. ①④ C. ②③ D. ③④
22. 为更好地规范婚姻家庭关系的法律适用,解决婚姻家庭领域的实际问题,《民法典婚姻家庭编解释(二)》于2025年2月1日起施行。

第十四条 离婚诉讼中,父母均要求直接抚养已满两周岁的未成年子女,一方有下列情形之一的,人民法院应当按照最有利于未成年子女的原则,优先考虑由另一方直接抚养:

(一)实施家庭暴力或者虐待、遗弃家庭成员;

(二)有赌博、吸毒等恶习;

(三)重婚、与他人同居或者其他严重违反夫妻忠实义务情形……

- 根据以上法条,下列结论正确的是 ()
- ①“有第一款行为”是“优先考虑由另一方直接抚养”的充分条件
②除非某人有第二款行为,否则他不会失去直接抚养未成年子女的权利
③某人如果符合第三款情形,他若不重婚,那么肯定有与他人同居的行为
④如果某人未失去子女直接抚养权,那么说明他肯定没有出现第十四条中的任何情形
- A. ①② B. ①④ C. ②③ D. ③④
23. 咏春拳行云流水,香云纱内敛光华。舞剧《咏春》创造性融合了国家级非遗与岭南民俗文化,并将武术与舞蹈巧妙结合展现出“武”的刚柔并济和“舞”的同根同源,让观众感受到肢体语言背后根脉相通的血缘关系,引发共情共鸣。该舞剧的成功在于 ()
- ①不作简单肯定与否定,传承和保护优秀传统文化
②对事物功能认识作反向思考,处理舞和武的关系
③用检核表法中的组合,实现不同艺术形式的呈现
④利用前瞻性功能,推动舞剧艺术风格之间的联结
- A. ①② B. ①③ C. ②④ D. ③④

三、综合题(本大题共5小题,共48分)

24. 为深入践行全过程人民民主,N镇创新构建人民建议“征集—协商—落实—反馈”闭环机制。N镇党委牵头,通过搭建微信“码上办”平台,构建“线上+线下”模式,广泛征集民意;各社区居委会组织镇政府、社区居民、行业专家等力量,通过“爱邻议事日”进行协商讨论,破解发展难题;区镇村三级联动,通过“分类管理、分级转化、跟踪调度”机制,实现“解决一件事”到“解决一类事”的跃升;并严格落实“受理—进展—结果”全过程反馈机制,进行常态化民主评议。通过系列行动,N镇将基层治理的“独角戏”逐渐演变为“大合唱”,基层治理的“最后一公里”正转变为“最美一公里”。

结合材料,运用《政治与法治》的相关知识,说明N镇是如何通过形式民主实现实质民主的。(9分)

25. 江南小昆村曾是一个空心化严重的古村落。近年来,“原乡人、归乡人、新乡人”积极响应乡村振兴战略,三方协同,实现蝶变:留守村民坚守初心,成立合作社,修缮古建筑,传承竹编、米酒酿造等传统技艺;返乡青年以敏锐的互联网意识,创办电商平台,将土特产销往全国,并开设“乡村直播间”吸引游客;艺术家、投资者带来城市休闲文化理念,把旧民居改造为艺术工作室和民宿,举办“稻田音乐节”等活动。如今,小昆村成为“网红”旅游村,集体经济年收入突破千万元,从“空心村”蝶变成为了“打卡村”。

结合材料,运用《哲学与文化》《经济与社会》的相关知识,回答下列问题:

(1)运用“唯物史观”的相关知识,分析小昆村的发展为什么要以“三乡人”为建设主体。(8分)

(2)小昆村计划进一步打造“农文旅融合示范区”,如果你是小昆村的大学生村官,运用《经济与社会》的相关知识,为村集体提出两条具体建议,并说明理由。(4分)

26. 徐女士系某小区地下室A车位的所有权人,其车位与侯先生所有的B车位左右相邻。侯先生认为徐女士倒车入库技术不佳,开关车门时多次刚蹭自家车位上停放的车辆,便在自家车位上加装了两个1米高的护栏。徐女士表示侯先生加装护栏的行为影响了自己正常使用车位,要求拆除护栏。侯先生认为自己是在合法行使所有权,但他无法提供车辆被徐女士刚蹭的证据。双方协商未果,徐女士遂向法院提起诉讼,请求判令侯先生拆除护栏。

结合材料,运用《法律与生活》的相关知识,回答下列问题:

(1)判断并分析徐女士的诉讼请求是否会获得人民法院的支持。(5分)

(2)若侯先生急需用钱,能否将 B 车位质押给银行,请说明理由。(4 分)

27. 近年来减肥药 Ozempic 风靡全球,但因其副作用(如恶心、呕吐)而备受争议。某团队的研究成果可能会影响到人们对 Ozempic 的认可度——人体中天然存在的“BRINP2 相关肽(BRP)”似乎可以更好起到控制食欲、促进减重的作用。该团队没有采用传统的费时费力的蛋白质分离技术,而是开发了一种名为“Peptide Predictor”的人工智能算法,借此在测试大量肽段后锁定了 BRP,并开始了一系列探索发现:在实验测试中, BRP 将神经元细胞活性提高到对照组的 10 倍,这一效果比 GLP-1(Ozempic 的靶点)组强 3 倍多;在肥胖小鼠中,每日注射 BRP 仅 14 天就导致它们平均减重 3 克(主要是脂肪),而对照组同期反而增重约 3 克;小鼠和迷你猪同时注射 BRP 后,在接下来 1 小时内的食物摄入均减少了高达 50%。由于 GLP-1 受体主要是人的大脑、胰腺和肠道等器官, BRP 主要作用于下丘脑(控制食欲和代谢的关键脑区),而且在动物实验中,研究人员没有观察到 BRP 引起任何消化道不适、活动量减少等不良反应。据此某媒体报道称, BRP 肽不仅仅是一种减肥药,更是代表了药物研发方法的重大突破。

结合材料,运用《逻辑与思维》的相关知识,回答下列问题:

(1)该研究在一系列探索中,运用了哪些具体方法来探求因果联系。(3 分)

(2)指出画横线部分的内容属于哪一种判断,并分析其真假。(3 分)

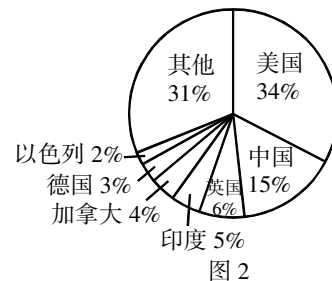
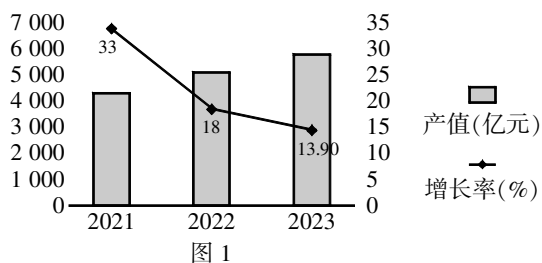
28. 在当今时代,经济全球化与国际关系民主化已然成为左右世界发展走向的关键潮流。在此背景下,发展中国家是优先融入经济全球化还是全力推动国际关系民主化,成为亟待深入探讨与审慎抉择的关键问题。

材料一 当前发展中国家普遍面临贫困、技术落后等现实问题。通过参与全球产业链分工,能够快速获取资金与技术。RCEP 框架下,越南 2023 年吸引外资超 300 亿美元,制造业就业率提升 12%。中国入世 20 年 GDP 增长 10 倍,才有能力推动亚投行、金砖扩员等机制改革。

材料二 世界命运应由各国共同掌握,国际规则由各国共同书写。不公正不合理的国际旧秩序使发展中国家处于不利地位。2023 年 WTO 驳回印度粮食储备提案,导致印度农民年均损失 120 亿美元。2023 年 COP28 气候基金被发达国家操控,77 国集团要求改革资金机制却遭无视,若不改变规则制定权,融入全球化只会固化依附地位。

某校以“发展中国家应优先融入经济全球化还是推动国际关系民主化?”为题组织了一场辩论赛。请你以其中一方立场,结合材料(可不限于材料),运用《当代国际政治与经济》的相关知识,写一篇立论陈词。(要求:①知识和素材运用恰当;论证路径清晰。②观点明确;条理清晰;逻辑严密,表达流畅;300 字以内)(12 分)

6. [原创]2025年7月28日,国家育儿补贴制度实施方案公布,从2025年1月1日起,无论一孩、二孩、三孩,每年均可领取3600元补贴,直至年满3周岁。关于这一政策,说法错误的有 ()
- ①通过国民经济初次分配,促进社会公平 ②增加当前可支配收入,减轻育儿压力 ③促进母婴产品消费,带动相关产业发展 ④实施货币政策,完善社会保障体系
- A. ①④ B. ①② C. ②③ D. ③④
7. [原创]2025年初,受国际大宗商品价格波动影响,我国部分制造业出现产能过剩、价格持续下跌现象,同时就业压力加大。为此,央行下调存款准备金率0.5个百分点,释放长期资金约1.2万亿元;财政部增发5000亿元专项国债,重点支持新能源汽车、光伏等新兴产业的设备更新改造。政府打出“组合拳”意在 ()
- ①实施宏观经济政策,保持宏观经济稳定 ②加强逆周期调节,助力我国制造业发展 ③加大对制造业投资,促进新兴产业发展 ④增加货币流动性,拓宽企业融资渠道
- A. ①② B. ①④ C. ②③ D. ③④
8. [原创]习近平总书记指出,人工智能是新一轮科技革命和产业变革的重要驱动力量,将对全球经济社会发展和人类文明进步产生深远影响。图1是2021—2023年我国人工智能核心产业规模及增速,图2示意全球人工智能企业数量分布(截至2023年3季度)。



【注】据IDC预测,2024年全球人工智能产业规模将达到6233亿美元,同比增长21.5%。
2027年全球生成式人工智能的市场规模将接近1500亿美元,复合增长率可达85.7%。

- 由上图可以得出 ()
- ①我国在全球人工智能产业格局中占重要位置
②人工智能产业具有巨大潜力与发展空间
③我国人工智能核心产业增速逐年上升
④我国人工智能产业发展将替代传统产业
- A. ①④ B. ①② C. ②③ D. ③④
9. [改编]2025年7月23日至29日,北京市遭遇极端强降雨,北部山区突发山洪。北京市各区镇党委、政府火速响应,党员干部、志愿者第一时间集结,挨家挨户排查隐患、转移群众,最终安全转移受灾群众。这一过程体现了中国共产党 ()
- ①坚持科学执政,始终发挥总揽全局、协调各方的领导核心作用
②践行全心全意为人民服务的根本宗旨,始终把人民利益放在首位
③是中国工人阶级的先锋队,同时是中国人民和中华民族的先锋队
④把维护人民群众的一切利益作为自己的最高价值追求
- A. ①② B. ①④ C. ②③ D. ③④
10. [改编]2025年是西藏自治区成立60周年。在中国共产党的领导下,西藏各族儿女和全国各族人民携手奋斗,紧紧围绕经济建设这个中心任务,西藏各方面发展取得显著成就,人民不断享有日益丰富的现代文明成果。这表明 ()
- ①党的领导是新疆发展的根本政治保证 ②民族团结是经济发展和社会进步的保证 ③我国民族区域自治地方享有高度自治权 ④我国坚持各民族共同繁荣的民族关系
- A. ①② B. ①③ C. ②④ D. ③④

11. [原创]某基层人民法院在审理一起环境污染公益诉讼案中,采取以下措施:邀请人大代表、环保志愿者组成人民陪审员参与庭审;检察院派员出庭支持起诉并监督庭审程序;通过直播平台全程公开庭审过程。这些举措 ()

- ①确保审判权和检察权依法独立行使 ②有利于构建阳光司法机制 ③坚持了人民司法为人民
④确保了结果公正和程序公正

A. ①② B. ②③ C. ①④ D. ③④

12. [原创]某社区“法律明白人”李某在调解一起农民工讨薪纠纷时,发现施工方因合同条款模糊拒绝支付工资。李某依据《保障农民工工资支付条例》向双方解释法律条款,指出合同无效部分,并建议通过劳动仲裁解决争议,最终促成双方达成协议。李某用行为告诉我们 ()

- A. 公民只需遵守法律,无需参与普法 B. 要引导公民学法用法,推动法律实施
C. 要解决纠纷必须完全依赖行政诉讼 D. 基层调解结果无需法律依据

13. [原创]为探索大自然奥秘,青藏高原山巅的瓦里关全球大气本底站的观测员们利用温室气体在线监测分析仪等观测设备,全天候检测、全年值守,绘制了“瓦里关曲线”的数据。“瓦里关曲线”成为我国应对气候变化、参与全球气候治理的关键成果,并为世界气象组织评估全球气候变化和治理提供了重要依据。从认识论角度可知 ()

- ①意识是对客观存在的反映 ②实践是检验认识真理性的唯一标准 ③实践是认识的来源 ④认识的目的是改造世界

A. ①③ B. ①② C. ②④ D. ③④

14. [改编]如图漫画《花怕啥?怕懒人,更怕勤快人》(作者:郑辛遥)启示我们 ()

- ①发挥主观能动性突破规律的制约
②坚持一切从实际出发
③坚持适度原则
④牵牛要牵牛鼻子

A. ①② B. ②③
C. ①④ D. ③④



15. [原创]和自然界的生态系统一样,创新是一项包含了科研、技术、产业、人才、制度等内容的系统工程。良好创新生态是多元主体的系统性繁荣。从一个天马行空的想法,到落地面世的产品,如果没有“产学研用”的环环相扣,没有政策与资本的合力托举,再精妙的创新构想也很难生根发芽。这表明 ()

- ①联系具有普遍性 ②社会意识具有相对独立性 ③整体功能总是大于部分功能之和 ④树立全局观念,掌握系统优化方法

A. ①④ B. ①② C. ②③ D. ③④

16. [原创]“我想离开浪浪山,出去闯闯”是今年暑期最火的电影台词之一。电影《浪浪山小妖怪》以《西游记》中无名小妖为主角,通过现代职场视角重构故事,让无数职场人为之破防、与之共情,被媒体誉为“传统文化IP的创新范本”。《浪浪山小妖怪》的成功启示我们 ()

- A. 全面继承传统文化实现创新 B. 坚持以人民为中心的创作导向
C. 坚持吸收外来文化有益成果 D. 运用现代技术满足人民需求

17. [原创]嘉兴桐乡濮院古镇处处散发着“混搭”(文旅+产业)的魅力,在传统水乡的根骨里植入了时尚的元素。沉浸式体验这种毫无违和感的文旅消费新模式,打破了“古镇即旅游”的产业发展“魔咒”,是提升古镇辨识度的新解法。濮院古镇的发展表明 ()

- ①文化反作用于一定的经济 ②融通不同资源赋能产业发展 ③文化要通过一定载体表现 ④文化发展要将经济效益放在首位

A. ①③ B. ①② C. ②④ D. ③④

二、选择题Ⅱ(本大题共6小题,每小题3分,共18分。每小题列出的四个备选项中只有一个是符合题目要求的,不选、多选、错选均不得分)

18. [原创]自2024年12月13日出任法国总理后不到9个月,弗朗索瓦·贝鲁的总理之位恐将不保,法国可能再次迎来政治动荡。贝鲁的前任米歇尔·巴尼耶仅上任3个月就被议会推翻,巴尼耶政府也成为法兰西第五共和国成立后在位时间最短的政府。由此可知,在法国 ()
- A. 总统由选民选举产生,总统掌握一定的行政权
B. 地方政府需服从中央统一领导
C. 总理对议会负责,议会可通过不信任案要求政府辞职
D. 法国属于典型的议会制国家,总统仅为象征性元首
19. [原创]8月31日至9月1日,2025年上合组织峰会在天津举行。当24岁的上合组织再“回家”,已经从最初的6个创始成员国发展成为覆盖亚欧非三大洲26个国家(10个成员国、2个观察员国、14个对话伙伴)的“上合组织大家庭”,构建起世界上幅员最广、人口最多的区域合作组织。下列关于上合组织的说法,正确的是 ()
- ①上合组织以对话合作、共谋发展为宗旨 ②上合组织已经成为当今区域合作典范 ③元首理事会是上合组织的最高机构 ④上合组织致力于打造区域共同体
- A. ①② B. ①④ C. ②③ D. ③④
20. 近期,国家知识产权局商标局坚决打击为谋取不当利益而恶意抢注“DeepSeek”或其图形的申请行为。这说明 ()
- ①注册相同或近似的商标导致混淆,构成违约责任 ②恶意抢注商标是扰乱市场秩序的不正当竞争行为
③市场主体应遵循诚信原则,尊重他人的创新成果 ④商标一经注册成功,就可以长久地获得法律保护
- A. ①② B. ①④ C. ②③ D. ③④
21. 2025年5月,A县张某骑电动自行车到B县游玩,行至B县某路段时,被坠落的网线绊倒,致身体多处骨折。经查实,B县的某公司为坠落网线的管理者,后张某与该公司就赔偿事宜未达成一致意见。该公司欲将纠纷提交仲裁机构仲裁,遭张某拒绝。张某诉至法院,要求该公司赔偿其医疗费等各项损失。据此,下列认识正确的是 ()
- A. 因本案未先经仲裁机构仲裁,人民法院不会登记立案
B. 本案适用举证责任倒置原则,张某无需承担举证责任
C. 根据地域管辖原则,张某应向A县人民法院提起诉讼
D. 该公司如不能证明自己没有过错,应当承担侵权责任
22. 某公司机密文件泄露,现查明泄密者是张、王、陈、吴中的一人,四人口供如下:
张:不是我泄露的。
王:吴是泄密者。
陈:王是泄密者。
吴:不是我泄露的。
四人中只有一人说了真话,请问泄密者是谁 ()
- A. 陈 B. 王 C. 张 D. 吴
23. [原创]某城市规划老旧社区改造项目时,既要保留历史风貌(如传统建筑),又要满足居民现代化生活需求(如加装电梯、智能设施)。在制定方案初期,团队预判到未来15年人口老龄化加剧和绿色低碳趋势,提出“分阶段改造、功能融合升级”的长期规划。下列思维方式的结合中,最能体现这一过程的是 ()
- A. 分析思维与综合思维—先拆分问题(保护与发展),再整合解决方案
B. 发散思维与聚合思维—提出多种方案(保留或拆除),再筛选最优解
C. 辩证分合思维与超前思维—协调对立需求,实现动态统一,并预判趋势布局未来
D. 系统思维与逆向思维—将社区视为整体系统,逆向推导改造路径

三、综合题(本大题共4小题,共48分)

24. [原创]某市“幸福里”社区曾是典型的城中村,设施老旧、矛盾多发。近年来,该社区探索出一条基层治理新路径:

社区党委牵头成立“红色议事厅”,组织党员定期走访群众,建立需求清单;联合物业、业委会制定《居民公约》,设立“党员责任区”。

街道办事处(基层政府)落实党委决策,改造水电管网、新建养老食堂;开通“网格通”App,实现居民投诉30分钟响应;定期公开民生项目预算。

区政协设立“社区联络站”,委员每月驻点调研,形成《关于缓解停车难的建议》并被政府采纳;组织企业家委员捐赠智能停车系统,发动律师委员提供公益调解服务。

社区先后获评“全国民主法治示范社区”,居民满意度达98%。

根据上述材料,结合《政治与法治》《哲学与文化》的相关知识,回答下列问题:

(1)结合材料,运用《政治与法治》的相关知识,分析中国共产党、政府、政协在“幸福里”基层治理中发挥了什么作用。(9分)

社区依托“红色议事厅”打造基层治理平台:议事厅墙壁悬挂长征油画、党员誓词;议事桌前常放《红岩》《苦难辉煌》等书籍;老党员定期讲述渡江战役亲历故事。但随着时间推移,部分年轻人反映红色故事形式单一,参与积极性下降。

(2)结合材料,运用“文化遗产与文化创新”的相关知识,针对“红色议事厅”建设的问题,就提升年轻人参与积极性提出一条针对性建议,并分别说明理论依据。(4分)

25. [原创]基于全民健康危机和慢性病防治的紧迫性,国家近期推出体重管理行动。在“国家喊你减肥啦!”背景下,全民掀起减肥健身浪潮,但也不乏一些健身减肥市场乱象的出现。

材料一 减肥是许多人追求健康的目标,但一些人依赖不科学的做法如极端节食、过度运动和依赖减肥药等,往往只关注体重数字的减少,而忽视了身体内部各系统间的协调(如内分泌、代谢)、心理状态的平衡(如压力、情绪),以及外部社会因素(如生活习惯、家庭支持)的相互影响。这些方法短期可能见效,但长期却导致健康问题,如营养不良、免疫力下降或心理困扰。

材料二 受高额利润的驱使,一些商家借网络平台浮夸推销。某网红减肥药广告宣称:“安全的药品是经过FDA认证的,本产品获FDA认证,因此绝对安全。”调查发现:因科学认知的局限性,FDA认证并非绝对安全保证,约有3%的获批药品因后续发现严重副作用被召回。而商家所谓“认证”实为食品备案号,但却隐瞒了12315平台投诉率38%的事实。消费者小王质疑:“广告说‘绝对安全’,但我朋友服用后进了ICU!”

根据上述材料,结合《哲学与文化》《逻辑与思维》的相关知识,回答下列问题:

(1)结合材料一,运用“联系具有多样性”的相关知识,谈谈对减肥中不科学做法的认识。(8分)

(2)结合材料二,运用“遵循逻辑思维规则”的相关知识,指出网红广告中的逻辑错误并说明理由。(6分)

26. [原创]刘某于2025年3月病逝,同年2月病重期间,曾亲自立有自书遗嘱:“名下房产(婚前置办)归儿子小刘单独所有。”刘某再婚妻子王某主张其与刘某在婚姻存续期间对该房产共同还贷(占总价60%)且该房产已经涨价,房产及增值应属夫妻共同财产并要求分割刘某隐瞒的比特币资产(王某通过刘某旧手机恢复数据发现)。保姆李某出示刘某2025年1月的公证遗嘱“补偿李某20万元”,与自书遗嘱时间冲突。小刘发现李某出示的公正遗嘱早于自书遗嘱,遗嘱日期经司法鉴定确认有篡改痕迹。王某为争夺遗产,从小刘前妻处购得其婚姻存续期间的私密聊天记录,在社区微信群散布“小刘患艾滋病”(实为伪造体检报告)。小刘因此遭公司停职、邻居排斥。小刘向法院提起诉讼,要求法院确认父亲自书遗嘱有效,房产独立继承权;驳回王某的比特币分割及李某的20万元补偿诉求;要求王某赔偿个人信息侵权精神损失10万元。运用《法律与生活》的相关知识,分析法院是否支持小刘三项诉讼主张并说明理由。(9分)

27. [原创]2025年4月9日,中央周边会议在北京举行,会议指出,我国周边地区是实现发展繁荣的重要基础,也是维护国家安全、推动构建人类命运共同体的关键。

机遇与挑战:

中国周边地区涵盖东亚、东南亚、南亚、中亚等区域,地缘政治复杂,传统安全与非传统安全威胁交织。全球治理赤字、单边主义抬头、南北差距扩大等问题,对区域稳定构成严峻挑战。然而,全球化深入发展也为区域合作提供了新机遇。中国与周边国家经济依存度持续提升,2024年与东盟贸易额达6.99万亿元,占中国外贸总值的15.9%,凸显了共同发展的巨大潜力。

主张与实践:

中国提出全球发展倡议、全球安全倡议、全球文明倡议,为周边命运共同体建设提供了思想引领。在“亲诚惠容”周边外交理念指导下,中国与17国达成命运共同体共识,与25国签署“一带一路”合作协议,形成了政治互信、经济联动、安全协作、人文交流的全方位合作框架。中国推动周边命运共同体的实践,是对全球治理变革的贡献。通过“共商共建共享”原则,中国打破了地缘壁垒,促进了生产要素自由流动,为南方国家合作提供了新范式。这种以合作共赢为核心的治理理念,正是应对全球性挑战、开创人类美好未来的关键路径。

结合材料,运用《当代国际政治与经济》中的相关知识,围绕“共同开创美好未来”这一主题,写一篇评述。

【要求:①知识和材料运用恰当。(9分)②观点明确;条理清晰、逻辑严密;表达流畅;300字左右。(3分)】