

## 浙江省 Z20 联盟（名校新高考研究联盟）2021 届高三第三次联考

# 历史试题卷

命题：德清高级中学

审稿：富阳中学 永嘉中学

### 考生须知：

1. 本试题卷分选择题和非选择题两部分，共 8 页，满分 100 分，考试时间 90 分钟。
2. 考生答题前，务必将自己的姓名、准考证号用黑色字迹的签字笔或钢笔填写在答题纸上。
3. 选择题的答案须用 2B 铅笔将答题纸上对应题目的答案标号涂黑，如要改动，须将原填涂处用橡皮擦净。
4. 非选择题的答案须用黑色字迹的签字笔或钢笔写在答题纸上相应区域内，答案写在本试题卷上无效。

### 选择题部分

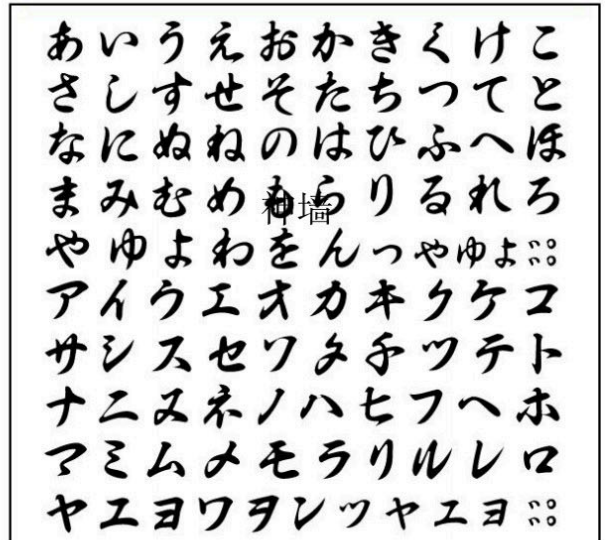
一、**选择题**（本大题有 25 小题，每题 2 分，共 50 分。每小题列出的四个备选项中只有一个是符合题目要求的，不选、多选、错选均不得分）

1. 《农书》：“方于耜、举趾之时，出居中田之庐，以便农事；俾采荼薪樗，以给农夫。治埒为圃，以种蔬茹……又墙下植桑，以便育蚕。古人治生之理，可谓曲尽矣。至九月筑圃为场，十月而纳禾稼，则岁事毕矣。”这从本质上反映了
  - A. 农民生活的富裕安逸
  - B. 农业地位极其重要
  - C. 自给自足的小农经济
  - D. 商品经济十分落后
2. 一位当代学者说：“中国两千多年来非封建制的实践带来了近乎无地方政府的传统，用严复的话说是‘尺柄寸权，悉归国家’的传统。”这一“传统”实际指
  - A. 分封制
  - B. 郡县制
  - C. 行省制
  - D. 军机处
3. 有学者说：“汉代是中国冶铁业发展的重要时期，各种铁制品开始广泛运用于社会生活各领域。”导致这一现象出现的根本原因是
  - A. 农业耕作方式和技术的进步
  - B. 汉武帝推行铁业官营制度
  - C. 煤炭开始被用作冶铁燃料
  - D. 商品经济推动手工业发展
4. “《春秋》大一统者，天地之常经，古今之通谊也。今师异道，人异论，百家殊方，指意不同，是以上亡以持一统。法制数变，下不知所守。臣愚以为诸不在六艺之科、孔子之术者，皆绝其道，勿使并进。邪辟之说灭息，然后统纪可一而法度可明，民知所从矣。”据此，对董仲舒的主张，下面理解申羌最准确的是
  - A. 实践德政，推行教化
  - B. 罢黜百家，独尊儒术
  - C. 文化的一统促进政治的一统
  - D. 儒者应有高度的社会责任感

5. 右表中的日文写法，主要仿自中国某种书法字体。

以下对这一书体的相关说法正确的是

- A. 字形结构平衡对称
- B. 唐代怀素擅长该书体
- C. 成熟并通行于汉魏时代
- D. 该书体与《玄秘塔碑》一致



6. 宋代《诸蕃志》记载的海外国家有 58 个，元代《岛夷志略》记载的海外国家增加到两百多个。这主要得益于宋元时期

- A. 大一统局面的巩固
- B. 丝绸之路的发展
- C. 海禁政策逐渐松弛
- D. 丝织业和制瓷业的发展

7. “真正对这种制度进行理性思考，指出皇帝为天下之‘荼毒’者、‘敲剥’者、‘大害’者，思考如何创设一种新的制度，……这位大思想家所著的神墙这本书就是从理论的高度批判君主专制制度的杰作。”“这本书”是指

- A. 《明夷待访录》
- B. 《天下郡国利病书》
- C. 《船山遗书》
- D. 《日知录》

8. 十九世纪六七十年代，洋务派在“求富”的口号下兴办了一批民用工业企业。属于该口号下兴办的企业有

- ①江南制造局
  - ②福州船政局
  - ③轮船招商局
  - ④开平矿务局
- A. ①②                      B. ①③                      C. ②③                      D. ③④

9. 《民报·发刊词》：“今者中国以千年专制之毒而不解，异族残之，外邦逼之，民族主义、民权主义，殆不可以须臾缓。而民生主义，欧美所虑积重难返者，中国独受病未深，而去之易……吾国治民生主义者，发达最先，睹其祸害于未萌，诚可举政治革命、社会革命毕其功于一役。”该材料出现的历史背景是

- ①改良道路在中国受挫
  - ②清政府完全沦为列强侵华工具
  - ③实业部颁布一些保护工商业的法规
  - ④知识分子的新觉醒
- A. ①②③                      B. ①②④                      C. ①③④                      D. ②③④

10. 在历次日本侵华战争中，环渤海地区的两大半岛曾遭受日本多次侵略。侵略战争破坏了中国的主权完整，践踏了人民的基本生存权，掠夺了中国人民大量财产财富。读右图，下列说法符合日本侵略史实的有



- ①甲午战争期间日本曾在 A 半岛某地制造大屠杀
- ②甲午战争之后日本成功割占 A 半岛
- ③19 世纪末 B 半岛是日本势力范围
- ④华盛顿会后日本仍保留在 B 半岛特权

- A. ①③
- B. ①④
- C. ②③
- D. ②④



11. 京张铁路青龙桥车站树立的石碑上镌刻着一行文字：“\_\_\_\_\_与京张铁路青龙桥站线路的交汇点：北纬 40 度 21 分 0.95 秒，东经 116 度 1 分 6.96 秒”。该文中空白处应填入
- A. 平遥古城                      B. 秦始皇陵                      C. 避暑山庄                      D. 万里长城
12. “丹心青史两辉煌，抗战春秋日月长；叶项刘陈宏略展，江淮河汉胜旗扬。铁军勋业传中外，烈士威名动四方；敌后华中根据地，长城万里著荣光。”该诗赞颂的是
- A. 北伐军                      B. 八路军                      C. 新四军                      D. 解放军
13. 遵义会议和中共七大在中国历史上的地位独特，二者反映了中国共产党历史发展的共同特点是
- A. 实现了党的工作重心的转移                      B. 马列主义普遍真理与中国国情相结合
- C. 确立了毛泽东思想的指导地位                      D. 找到了中国民主革命的正确道路
14. 有学者说：“传统儒学强调的最高境界是为全社会明道立法、制礼作乐。新中国成立后不久，就立意为国际社会‘明道立法、制礼作乐’。”下列新中国外交活动中最能体现材料观点的是
- A. 奉行独立自主和平外交                      B. 在日内瓦会议上发挥建设性作用
- C. 倡导和平共处五项原则                      D. 提出“求同存异”方针
15. 在 2021 年 3 月的中美高峰论坛中，杨洁篪回应美国“与众不同”的开场白：“美国没有资格对中国居高临下讲话，中国人不吃那一套。”七十多年前，毛泽东在某次会议的开幕词中宣告：“占人类总数四分之一的中国人从此站立起来了。”对七十多年前这次会议的表述，正确的是
- A. 通过了新中国的建国纲领                      B. 规定了我国的根本政治制度
- C. 选举产生了中央人民政府                      D. 标志中国进入社会主义社会
16. 伴随罗马法律的不断扩展，公民权范围也在持续扩大，在帝国初期的几十年里，法国、西班牙、北非的一部分人获得了罗马公民权，成为新的罗马人。有选择地授予他们罗马公民权，进一步鼓励他们对罗马的忠诚和认同。下列说法符合当时罗马帝国神墙历史的有
- ①新罗马人所适用的法律更为简洁灵活                      ②万神殿成为新罗马人的信仰圣地
- ③获得公民权是罗马赋予外邦人的荣誉                      ④外邦人此时已经普遍取得公民权
- A. ①②                      B. ①③                      C. ②③                      D. ③④
17. 圣彼得大教堂中的世界名画《小帆》的作者是意大利画家、雕刻家与建筑师，被认定为是意大利文艺复兴时期的开创者，被誉为“欧洲绘画之父”。下列建筑或作品与其有关的是




A.



B.



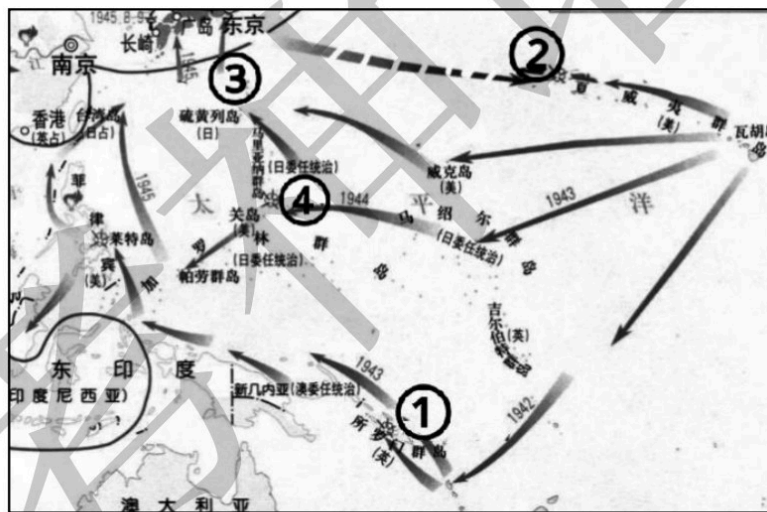
C.



D.

18. 马丁路德认为，一般世人虽然受洗，并且名义上称为基督徒，但他们始终无法基督化。因此，人们若冒险用福音管治整个社区，就会像牧人把豺狼、狮子鹰和羊群都放在一个圈中一般，或者能够维持和平，但不会持久。世界是不能用念珠来统治的。下列观点与材料最为接近的是
- A. 新教否认了教皇和神职人员的权威                      B. 人的灵魂得救要靠自己虔诚的信仰
- C. 人人都可以直接和上帝沟通与对话                      D. 教会并不高于国家而应从属于国家

19. 某国经营的横跨太平洋的贸易，主要在其两大殖民地菲律宾和墨西哥之间进行。坚固、快速和装备精良的“马尼拉大帆船”，运载大量中国生产的生丝、丝绸、棉布和瓷器等产品到墨西哥交换白银，再将这些白银运回马尼拉。据研究，自1571年马尼拉大帆船航线开通后的20年间，平均每年有150吨白银运到马尼拉，这些白银也大量流入中国。根据材料，以下说法正确的是
- A. 该帆船为西班牙商船  
B. 该帆船以蒸汽为动力  
C. 世界市场已经形成  
D. 中国是世界市场的中心
20. “单一行政官”理论是在对美国宪法有关总统权力条款的解读过程中产生的理论，其核心含义是：任何对总统掌控行政部门进行限制的企图都被视为违宪。“单一行政官”的概念形成于两百多年前的制宪会议。后来，“单一行政官”理论不断地发展演变，为美国总统不断扩展其行政权力提供了理论依据。由此可得
- A. 美国权力制衡体系名存实亡  
B. 美国资产阶级民主制度不断完善  
C. 美国政治运行机制发生变化  
D. 立法权和行政权逐渐集中于总统
21. 恩格斯在评价某政权覆亡时说：“一个在四分之一的世纪内因连年战争而力量消耗殆尽的国家，已不可能单独抵抗整个武装起来的世界对他的进攻。”材料中“整个武装起来的世界”指的是
- A. 国际反法西斯联盟  
B. 英俄普奥为首的反法同盟  
C. 美国加入后的协约国集团  
D. 独立战争期间援助美国的欧洲国家
22. 太平洋战场是二战的重要战场。关于下图数字标注点，说法正确的是




- A. ①处战役使日本开始丧失太平洋战场的战略主动权  
B. ②处战役爆发前美国舰载飞机对日本城市进行了轰炸  
C. ③处战役后美军从此牢牢掌握了太平洋战场的主动权  
D. ④处美日双方为争夺制海权进行了殊死搏斗
23. 一学者评价二战后某一国家的经济发展模式时说：“该国运用国家的干预手段来限制垄断和保护自由竞争。在这种模式中，国家不介入市场竞争，而是充当市场竞争裁判员的角色。”另一学者也评论道：“进而想把企业家弄成官府意志的奴隶和单纯地执行机器，那就必然毁灭一切人格价值并剥夺经济界最宝贵的动力。”据此判断，该国为二战后的
- A. 英国  
B. 法国  
C. 联邦德国  
D. 日本



24. 右图所示为某次重要会议场景。在这次会议中

- A. 推动了二战后法国和联邦德国的和解
- B. 倡导独立自主和非集团的宗旨和原则
- C. 提出了亚太经济合作组织大家庭精神
- D. 促使全球化进程取得了实质性的进展



25. 有学者说：“如果说历史是已经发生的所有的事件和人物的总和，那么它具有不可重复性（再现性），因此，纯粹客观的历史是不可能被任何一个人所掌握的。我们的历史大多是一种观念的历史。而往往评价的社会政治功能太强，从而压倒了求证的重要性。”这说明

- A. 历史具有不可重复性，因此它不可能被认知
- B. 纯粹客观的历史研究，应排除社会政治功能的干扰
- C. 求证和评价都是历史研究的重要途径
- D. 在历史研究中，求证比评价更加重要

## 非选择题部分

二、非选择题（本大题共4小题，共50分）

26. 新中国成立以来，社会主义现代化进程得到有力的推进。阅读材料，回答问题。（10分）

**材料一** 改革开放前的三十年，奠定了当今中国现代化的重要基础。新中国的诞生，消除了长达百年的社会动荡，到改革开放前，中国的现代化在政治制度创新、工业化建设等领域取得明显成效……当然，那三十年也出现过严重的失误，延缓了中国的现代化进程……一个基本的事实是，1955年，中日两国的国内生产总值持平，而到了1977年，中国只有日本的四分之一。

——摘编自章百家《变动的中国和变动的世界》

**材料二** 20世纪后期，我国开始探索适合国情的卫星导航系统发展道路，逐步形成了“三步走”发展战略：2000年年底，建成北斗一号系统，向中国提供服务；2012年年底，建成北斗二号系统，向亚太地区提供服务；在2020年前后，建成北斗全球系统，向全球提供服务。2020年6月23日，随着最后一颗北斗三号组网卫星成功送入神墙预定轨道，标志着北斗三号全球卫星导航系统星座部署全面完成。

——摘编自李申阳《北斗卫星导航系统助力国民经济发展》

- (1) 根据材料一，结合所学知识，简述改革开放前的三十年在政治、经济领域为当今中国现代化奠定的基础。（4分）
- (2) 中国北斗卫星导航系统是中国自行研制的全球卫星导航系统。除此以外，请根据所学列举改革开放以来我国在卫星技术领域所取得的成就，并分析这些成就的重要意义（6分）

27. 阅读材料,回答问题。(10分)

**材料一** 19世纪末20世纪初,欧洲经历了三个贸易条约密集签订期,分别是1881~1884年、1891~1894年、1904~1906年。法国引领了1881~1884年贸易条约浪潮。1881年法国关税修改在本质上仍属于自由主义的关税法,根据该关税体系法国与比利时、意大利和葡萄牙等八个国家签订了为期十年的贸易条约,通过最惠国条款做出了诸多条目税率的下调,有所提高的工业品税率极大地被抵消。

——摘编自朱华进《19世纪晚期欧洲贸易条约与协定浪潮》

**材料二** 1927年日本棉纺制品出口只有英国的33%,到1935年竟为140%……(资本主义各国)政府实行货币贬值或降低汇率政策,以相对抬高别国商品的价格,从而削弱对手的竞争能力。货币手段的使用,使世界商战空前激烈。

——摘编自高德步 王珏《世界经济史》

- (1) 欧洲密集签订贸易条约体现了国际经济交流基本准则的确立和完善,根据材料一并结合所学,指出国际经济交流基本准则的内容,并分析其影响。(6分)
- (2) 根据材料二并结合所学知识,指出资本主义国家为争夺世界市场在经济领域发动的“商战”形式。以史为鉴,概括第二次世界大战后期及战后世界各国为重建世界经济秩序采取的措施。(4分)

微信公众号：浙考神墙750 浙江高考墙750QQ：2754808740

28. 统一多民族国家，流传着太多的民族团结故事。阅读材料，回答问题。（15分）

**材料一** 入清后，西藏接受中央政府统辖。顺治帝正式赐予达赖五世以“达赖喇嘛”的封号，康雍乾时期清廷几次派兵入藏平定准噶尔部贵族策动的叛乱，击退廓尔喀（尼泊尔一部落）入侵。雍正五年（1727年），设置两名驻藏大臣，直接监督西藏地方政府。乾隆年间，改革西藏地方行政体制，分散西藏地方政府事权，进一步提高驻藏大臣权力。

——摘编自施建中主编《中国古代史》（下册）

**材料二** 各少数民族聚居的地方实行区域自治，设立自治机关，行使自治权。各民族自治地方都是中华人民共和国不可分离的部分。

——1982年《中华人民共和国宪法》第四章

**材料三** 拉萨布达拉宫于1994年被列入《世界遗产名录》。关于布达拉宫，有两种认识可供讨论。①从红炆山宫到布达拉宫的演进从一个侧面见证了中国多民族国家的发展历程。②从布达拉宫所蕴含的精神文化内涵看，布达拉宫在中国的世界文化遗产中具有十分独特的价值。

——根据中央电视台纪录片《世界遗产中国录》整理

- （1）根据材料一并结合所学概括清朝前期对西藏所采取政策的特点，并分析其作用。（6分）
- （2）根据材料二并结合所学，指出西藏自治区设立的时间，并简述西藏自治区是如何行使自治权的。（3分）
- （3）根据材料三，您更侧重分析哪一种认识？侧重分析①，请结合所学知识，以唐朝和清朝的相关史实予以阐释。侧重分析②，请结合所学，指出布达拉宫所蕴含的主要文化内涵，并以布达拉宫的建筑元素予以说明。（6分）

29. 和平来之不易，建设一支强大的军队是国家和社会和平发展的重要保障。（15分）

**材料一** 1651年航海法的颁布不仅是“英国历史上政府第一次把对外贸易作为一个国家的事业来追求”，也是其追求国家层面全球海洋事业的开端。……经过之后的多次修正，1651年颁布的航海法已不仅仅是保护英国商船和渔船的法案，也已经成为英国殖民体系坚实的基石，该法案的实施促进了英国航运和海上贸易的增长。……詹姆斯一世统治的22年只建造了19艘军舰。到1648年，英国在海上总共只有41艘军舰。在1649至1659年的11年中共建造了98艘军舰，加其余一些的战舰，英国海军到共和国时代结束时一共增加了207艘战舰。

——摘编自钱乘旦《英国通史》

**材料二** 据苏联最新统计，十月革命前全国工人赤卫队员约有10万人，而拥护布尔什维克的士兵则有225万人，参加彼得格勒起义的工人赤卫队员有2万3千名，而革命士兵则将近18万人。事实说明，革命士兵同工人一起组成了十月革命的主力军。布尔什维克党正是依靠了工人和革命士兵的巩固联盟，在各个中心城市取得了战略优势，从而保证了十月革命的胜利。正如列宁所说，“如果不是每个士兵和工人的斗志都十分高昂，政权永远不会脱离统治者的掌握……布尔什维克党认为，只有不断发展、壮大军队中的党组织，充分发挥党的核心领导作用，才能真正把士兵争取到无产阶级一边。因此它一直非常重视在军队中建党。

——摘自李景治《俄国十月革命争取和改造旧军队的经验》

**材料三** 新中国成立之初，几个世界大国都已进入“原子时代”和“喷气时代”，而当时的中国连常规武器的制造水平都相当落后……1950年，抗美援朝战争爆发后，由于无法在战争中取得胜利，美国原子弹甚至运到了停泊在朝鲜半岛附近的航空母舰上……1960年，苏联全部撤走了在中国核工业系统工作的200多名苏联专家，并同时带走了全部的重要图纸……

——摘自洪向华《复兴之路》

- (1) 根据材料一和所学知识，概述英国在共和国时代大力建设海军的目的。结合所学，简述克伦威尔在英国革命时期建设陆军（铁骑军）的具体举措。（5分）
- (2) 根据材料二，从军队和战略角度说明十月革命胜利的原因。今年2021年是苏军某一辉煌战役胜利的八十周年，结合所学分析这一战役的伟大意义。（5分）
- (3) 根据材料三并结合所学知识，阐述使人类进入“原子时代”的重要理论依据。结合上述材料，概括国家军队建设所要遵循的历史经验。（5分）